



ജില്ലയുടെ പേര് : കണ്ണൂർ
ബി.ആർ.സി യുടെ പേര് : പാനൂർ

വൈറ്റ്ബോർഡ് ഷീറ്റ്

സ്റ്റാൻഡേർഡ് : III

വിഷയം : ഗണിതം

യൂണിറ്റ് : IV




പാഠം : രൂപങ്ങൾ ചേരുമ്പോൾ

വർഷീറ്റ്

നമ്പർ : 1/3

തുടർച്ച

ഒരു പോലുള്ളവ ചേർത്തു വെക്കാനോ?





ജില്ലയുടെ പേര് : കണ്ണൂർ
ബി.ആർ.സി യുടെ പേര് : പാനൂർ

വൈറ്റ്ബോർഡ് ഷീറ്റ്

സ്റ്റാൻഡേർഡ് : III

വിഷയം : ഗണിതം

യൂണിറ്റ് : IV

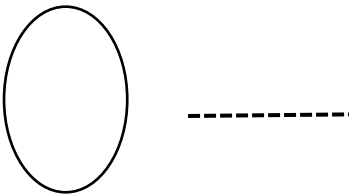
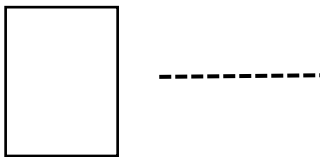
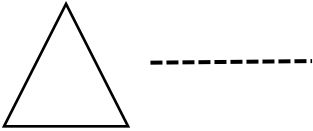
പാഠം : രൂപങ്ങൾ ചേരുമ്പാൾ

വർഷീറ്റ്

നമ്പർ : 2/3

തുടർച്ച

ചുവടെ കൊടുത്തിരിക്കുന്ന ഗണിത രൂപങ്ങളുടെ പേര് എഴുതുക





ജില്ലയുടെ പേര് : കണ്ണൂർ
 ബി.ആർ.സി യുടെ പേര് : പാനൂർ

വൈറ്റ്ബോർഡ് ഷീറ്റ്

സ്റ്റാൻഡേർഡ് : III
 വിഷയം : ഗണിതം
 യൂണിറ്റ് : IV
 പാഠം : രൂപങ്ങൾ ചേരുമ്പോൾ
 വർക്ക്ഷീറ്റ്
 നമ്പർ : 3/3

തുടർച്ച

ദൈനംദിന ജീവിതത്തിൽ കാണപ്പെടാറുള്ള വസ്തുക്കളെ ചതുരം, ത്രികോണം, വട്ടം എന്നീ ഗണിത രൂപങ്ങളെ അടിസ്ഥാനപ്പെടുത്തി പട്ടിക തയ്യാറാക്കുക

ചതുരത്തിലുള്ളവ	വട്ടത്തിലുള്ളവ	ത്രികോണത്തിലുള്ളവ