





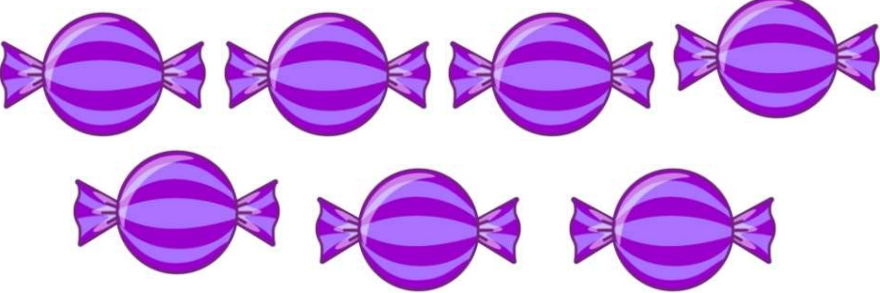

ജില്ലയുടെ പേര് : തിരുവനന്തപുരം
 ബി.ആർ.സി.യുടെ പേര് : നെടുമങ്ങാട്

സ്റ്റാൻഡേർഡ് : 4
 വിഷയം : ഗണിതം
 യൂണിറ്റ് : 10
 പാഠം : വിവരശേഖരണം
 വർക്ക്ഷീറ്റ് നമ്പർ : 01

വൈറ്റ് ബോർഡ് ഷീറ്റ്

ആരംഭം

ശരിയായ രീതിയിൽ യോജിപ്പിക്കുക

മിഠായികൾ	എണ്ണം
	7
	4
	5
	3



ജില്ലയുടെ പേര് : തിരുവനന്തപുരം
 ഡി.ആർ.സി.യുടെ പേര് : നെടുമങ്ങാട്

സ്റ്റാൻഡേർഡ് : 4
 വിഷയം : ഗണിതം
 യൂണിറ്റ് : 10
 പാഠം : വിവരശേഖരണം
 വർക്ക്ഷീറ്റ് നമ്പർ : 02

വൈറ്റ് ബോർഡ് ഷീറ്റ്

തുടർച്ച

വീണ തന്റെ ജന്മദിനത്തിന് നിധിന് 6 മിഠായിയും, മീനൂവിന് 10 മിഠായിയും, ആര്യയ്ക്ക് 8 മിഠായിയും കൊടുത്തു. എങ്കിൽ താഴെ കൊടുത്തിരിക്കുന്ന ചോദ്യങ്ങൾക്ക് ബ്രേക്കറ്റിൽ നിന്ന് ഉത്തരം കണ്ടു പിടിച്ച് എഴുതുക.

1) മീനൂവിന് കിട്ടിയ മിഠായികൾ എത്ര?

(10, 8, 6)

2) ആര്യയ്ക്ക് കിട്ടിയ മിഠായികൾ എത്ര?

(6, 8, 7)

3) നിധിന് കിട്ടിയ മിഠായികൾ എത്ര?

(10, 5, 6)



ജില്ലയുടെ പേര് : തിരുവനന്തപുരം
 ഓ.ആർ.സി.യുടെ പേര് : നെടുമങ്ങാട്


സ്റ്റാൻഡേർഡ് : 4
 വിഷയം : ഗണിതം
 യൂണിറ്റ് : 10
 പാഠം : വിവരശേഖരണം
 വർക്ക്ഷീറ്റ് നമ്പർ : 03

വൈറ്റ് ബോർഡ് ഷീറ്റ്

തുടർച്ച

രാജുവിന്റെ കൈയ്യിൽ 5 പെട്ടി നിറയെ മാങ്ങകൾ ഉണ്ട്.

താഴെ കൊടുത്തിരിക്കുന്ന എണ്ണം പട്ടിക പ്പെടുത്തുക



പെട്ടികൾ	മാങ്ങകൾ
പെട്ടി - 1	
	7
പെട്ടി - 3	
	9
പെട്ടി - 5	



ജില്ലയുടെ പേര് : തിരുവനന്തപുരം
 ബി.ആർ.സി.യുടെ പേര് : നെടുമങ്ങാട്

സ്റ്റാൻഡേർഡ് : 4
 വിഷയം : ഗണിതം
 യൂണിറ്റ് : 10
 പാഠം : വിവരശേഖരണം
 വർക്ക്ഷീറ്റ് നമ്പർ : 04

വൈറ്റ് ബോർഡ് ഷീറ്റ്

തുടർച്ച

കൂടുതൽ മിഠായി ആർക്കാണ്

പേര്	ലഭിച്ച മിഠായി	എണ്ണം
ജിത്തു		6
ആര്യ		8
മീനു		10
നിധിൻ		7

കൂടുതൽ മിഠായി ആർക്കാണ് ലഭിച്ചത്



ജില്ലയുടെ പേര് : തിരുവനന്തപുരം
ബി.ആർ.സി.യുടെ പേര് : നെടുമങ്ങാട്

സ്റ്റാൻഡേർഡ് : 4
വിഷയം : ഗണിതം
യൂണിറ്റ് : 10
പാഠം : വിവരശേഖരണം
വർക്ക്ഷീറ്റ് നമ്പർ : 05

വൈറ്റ് ബോർഡ് ഷീറ്റ്

തുടർച്ച

കൂട്ടുകാരെ കണ്ടെത്താം



3



4



1



2







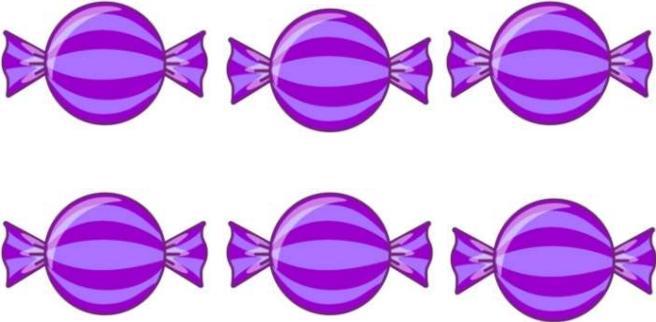
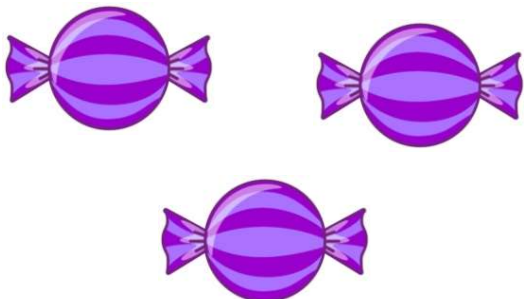
ജില്ലയുടെ പേര് : തിരുവനന്തപുരം
 ബി.ആർ.സി.യുടെ പേര് : നെടുമങ്ങാട്

സ്റ്റാൻഡേർഡ് : 4
 വിഷയം : ഗണിതം
 യൂണിറ്റ് : 10
 പാഠം : വിവരശേഖരണം
 വർക്ക്ഷീറ്റ് നമ്പർ : 06

വൈറ്റ് ബോർഡ് ഷീറ്റ്

തുടർച്ച

കുറവ് ഉള്ളത് (✓) ചെയ്യുക



ജില്ലയുടെ പേര് : തിരുവനന്തപുരം
 ഡി.ആർ.സി.യുടെ പേര് : നെടുമങ്ങാട്

സ്റ്റാൻഡേർഡ് : 4
 വിഷയം : ഗണിതം
 യൂണിറ്റ് : 10
 പാഠം : വിവരശേഖരണം
 വർക്ക്ഷീറ്റ് നമ്പർ : 07

വൈറ്റ് ബോർഡ് ഷീറ്റ്

തുടർച്ച


കൂട്ടങ്ങൾ എണ്ണി കണ്ടെത്താം

കൂട്ടം

ആകെ

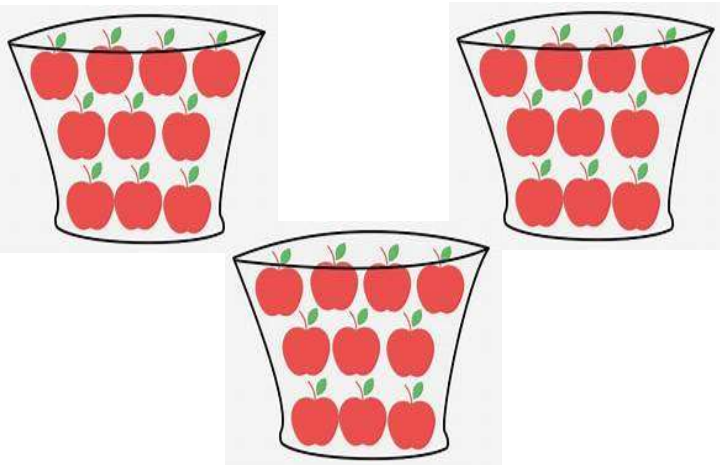
എത്ര

എണ്ണം











ജില്ലയുടെ പേര് : തിരുവനന്തപുരം
ബി.ആർ.സി.യുടെ പേര് : നെടുമങ്ങാട്



സ്റ്റാൻഡേർഡ് :	4
വിഷയം :	ഗണിതം
യൂണിറ്റ് :	10
പാഠം :	വിവരശേഖരണം
വർക്ക്ഷീറ്റ് നമ്പർ :	08

വൈറ്റ് ബോർഡ് ഷീറ്റ്

തുടർച്ച

എണ്ണി നോക്കാം കണ്ടെത്താം

ഒരുപോലെയുള്ള കൂട്ടങ്ങളെ കണ്ടെത്തി യോജിപ്പിക്കുക





ജില്ലയുടെ പേര് : തിരുവനന്തപുരം
 ഖേമം : റെഡ് ബുക്ക്






സ്റ്റാൻഡേർഡ് : 4
 വിഷയം : ഗണിതം
 യൂണിറ്റ് : 10
 പാഠം : വിവരശേഖരണം
 വർക്ക്ഷീറ്റ് നമ്പർ : 09

റെഡ് ബുക്ക് ഷീറ്റ്

തുടർച്ച

ലൈബ്രറിയിലെ പുസ്തകങ്ങളുടെ എണ്ണം എഴുതുക.

ഒരു പുസ്തകം 10 എണ്ണത്തെ സൂചിപ്പിക്കുന്നു

ഇനം	പുസ്തകം	ആകെ എണ്ണം
ബാലസാഹിത്യം		40
കഥ		
കവിത		
നോവൽ		
ജീവചരിത്രം		





ജില്ലയുടെ പേര് : തിരുവനന്തപുരം
 ഖേമം : നെടുമങ്ങാട്

സ്റ്റാൻഡേർഡ് :	4
വിഷയം :	ഗണിതം
യൂണിറ്റ് :	10
പാഠം :	വിവരശേഖരണം
വർക്ക്ഷീറ്റ് നമ്പർ :	10

വൈറ്റ് ബോർഡ് ഷീറ്റ്

തുടർച്ച

താഴെ തന്നിരിക്കുന്ന വസ്തുക്കളുടെ ആകൃതി തിരഞ്ഞെടുത്ത് എഴുതുക



(വൃത്തം, ചതുരം, ത്രികോണം)




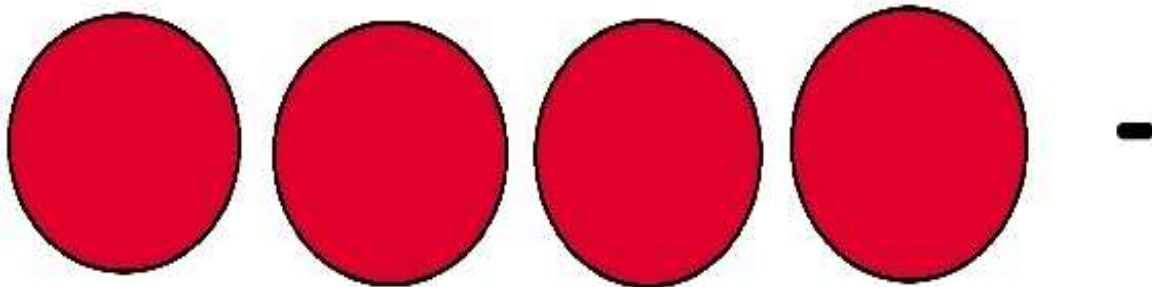
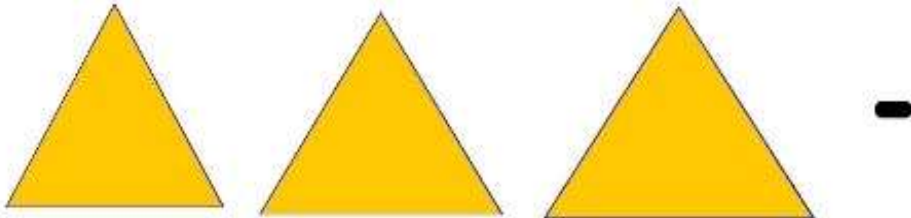
ജില്ലയുടെ പേര് : തിരുവനന്തപുരം
 ഖേമം : നെടുമങ്ങാട്

സ്റ്റാൻഡേർഡ് : 4
 വിഷയം : ഗണിതം
 യൂണിറ്റ് : 10
 പാഠം : വിവരശേഖരണം
 വർക്ക്ഷീറ്റ് നമ്പർ : 11

വൈറ്റ് ബോർഡ് ഷീറ്റ്

തുടർച്ച

താഴെ തന്നിരിക്കുന്ന ആകൃതികൾ എത്ര എണ്ണമുണ്ടെന്ന് എണ്ണി നോക്കി എഴുതുക





Samagra Shiksha Kerala

ജില്ലയുടെ പേര് : തിരുവനന്തപുരം
ബി.ആർ.സി.യുടെ പേര് : നെടുമങ്ങാട്

സ്റ്റാൻഡേർഡ് : 4
വിഷയം : ഗണിതം
യൂണിറ്റ് : 10
പാഠം : വിവരശേഖരണം
വർക്ക്ഷീറ്റ് നമ്പർ : 12

വൈറ്റ് ബോർഡ് ഷീറ്റ്

അവസാനം

താഴെ തന്നിരിക്കുന്ന ചിത്രത്തിൽ കാണുന്ന ആകൃതികൾ തിരിച്ചറിഞ്ഞ് എഴുതുക

