

ജില്ലയുടെ പേര്. പത്തനംതിട്ട
 ഓരോ വി.ആർ.നിയുടെ പേര്. കോന്നി

സ്റ്റാൻഡേർഡ്	: 6
വിഷയം	: അടിസ്ഥാനശാസ്ത്രം
യൂണിറ്റ്	: 4
പാഠം	: ചലനത്തിനൊപ്പം
വർക്ക് ഷീറ്റ് നമ്പർ	: 1

ആരംഭം

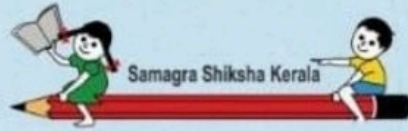
വൈറ്റ് ബോർഡ് ഷീറ്റ്

താഴെ തന്നിരിക്കുന്നവയിൽ നിന്നും നമ്മുടെ ശരീരത്തിനുള്ളിൽ നടക്കുന്ന ചലനം ഏതെന്ന് കണ്ടെത്തുക

നടക്കുന്നു

ഹൃദയമിടിപ്പ്

ചാടുന്നു



ജില്ലയുടെ പേര്, പത്തനംതിട്ട
ബി.ആർ.നിയുടെ പേര്, കോന്നി

സ്റ്റാൻഡേർഡ് : 6
വിഷയം : അടിസ്ഥാന ശാസ്ത്രം
യൂണിറ്റ് : 4
പാഠം : ചലനത്തിനൊപ്പം
വർക്ക് ഷീറ്റ് നമ്പർ : 6

തുടർച്ച

വൈറ്റ് ബോർഡ് ഷീറ്റ്

താഴെ തന്നിരിക്കുന്നവയിൽ നിന്നും ദോലനത്തിന് ഉദാഹരണം കണ്ടെത്തി ശരിയിടുക

① കാരത്തൂ ഇലകളുടെ ആട്ടം

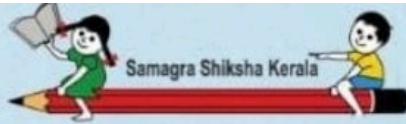
① വെള്ളം ഒഴുകുന്നത്

① കാറിലെ വൈപ്പറിന്റെ ചലനം

① പൂവിരിയുന്നത്

① ഓല തുമ്പത്തു ഞാൻ കിടന്നു കൊണ്ട് ഓലേഞാലി കിളിയുടെ ആട്ടം

① സൂര്യൻ ഉദിക്കുന്നത്



ബില്ലയുടെ പേര്. പത്തനംതിട്ട
 ബി.ആർ.നിയുടെ പേര്. കോന്നി

സ്റ്റാൻഡേർഡ് : 6
 വിഷയം : അടിസ്ഥാന ശാസ്ത്രം
 യൂണിറ്റ് : 4
 ഫഠം : ചലനത്തിനൊപ്പം
 വർക്ക് ഷീറ്റ് നമ്പർ : 2

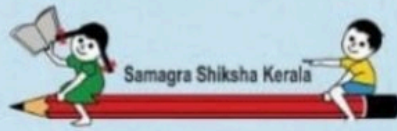
തുടർച്ച

വൈറ്റ് ബോർഡ് ഷീറ്റ്

താഴെ തന്നിരിക്കുന്നവയിൽ നിന്നും സാവധാനത്തിൽ നടക്കുന്ന ചലനവും വേഗത്തിൽ നടക്കുന്ന ചലനവും തരംതിരിച്ചെഴുതുക

ഉറുമ്പിന്റെ സഞ്ചാരം, ഒച്ച് ഇഴയുന്നത്, ഓടിക്കൊണ്ടിരിക്കുന്ന വാഹനം, ഭൂമിയുടെ ചലനം

വേഗത്തിൽ നടക്കുന്ന ചലനം	സാവധാനത്തിൽ നടക്കുന്ന ചലനം



ജില്ലയുടെ പേര്. പത്തനംതിട്ട
ബി.ആർ.നിയുടെ പേര്. കോന്നി

സ്റ്റാൻഡേർഡ് : 6
വിഷയം : അടിസ്ഥാന ശാസ്ത്രം
യൂണിറ്റ് : 4
പാഠം : ചലനത്തിനൊപ്പം
വർക്ക് ഷീറ്റ് നമ്പർ : 3

തുടർച്ച

വൈറ്റ് ബോർഡ് ഷീറ്റ്


താഴെ തന്നിരിക്കുന്ന ചിത്രങ്ങളിൽ നിന്നും നേർരേഖചലനത്തിലുള്ള സാഹചര്യത്തിലെ ചിത്രങ്ങൾക്ക് ചുറ്റും വട്ടമിടുക



മാമ്പഴം ഞെട്ടറ്റ് വീഴുന്നു.



പമ്പരം കറങ്ങുന്നു.



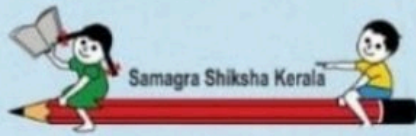
ലിഫ്റ്റ് ഉയരുന്നു.



കയറിൽ കെട്ടിയ കല്ല് വട്ടത്തിൽ കറക്കുന്നു.



വാഹനങ്ങളുടെ ചക്രം കറങ്ങുന്നു.



ശില്പയുടെ പേര്. പത്തനംതിട്ട
 വി.ആർ.നിയുടെ പേര്.കോന്നി

സ്റ്റാൻഡേർഡ്	: 6
വിഷയം	: അടിസ്ഥാനശാസ്ത്രം
യൂണിറ്റ്	: 4
പാഠം	: ചലനത്തിനൊപ്പം
വർക്ക് ഷീറ്റ് നമ്പർ	: 5

തുടർച്ച

വൈറ്റ് ബോർഡ് ഷീറ്റ്

ബ്രായ്ക്കറ്റിൽ നിന്നും ശരി ഉത്തരം തെരഞ്ഞെടുത്ത് എഴുതുക

വസ്തു ഒരു തുലന സ്ഥാനത്തെ ആസ്പദമാക്കി ഇരു വശങ്ങളിലേക്കും ചലിക്കുന്നതിനെ..... എന്നുപറയുന്നു?

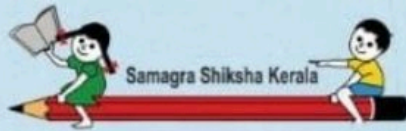
(കമ്പനം, ദോലനം)

ദ്രുത ഗതിയിലുള്ള ദോലനങ്ങളെ..... എന്നാണ് പറയുന്നത്?

(ഭ്രമണം, കമ്പനം)

ഊഞ്ഞാലാടുന്നത് ഏത് തരം ചലനത്തിന് ഉദാഹരണമാണ്?

(ഭ്രമണം, ദോലനം)



ശില്പയുടെ പേര്. പത്തനംതിട്ട
ബി.ആർ.നിയുടെ പേര്. കോന്നി

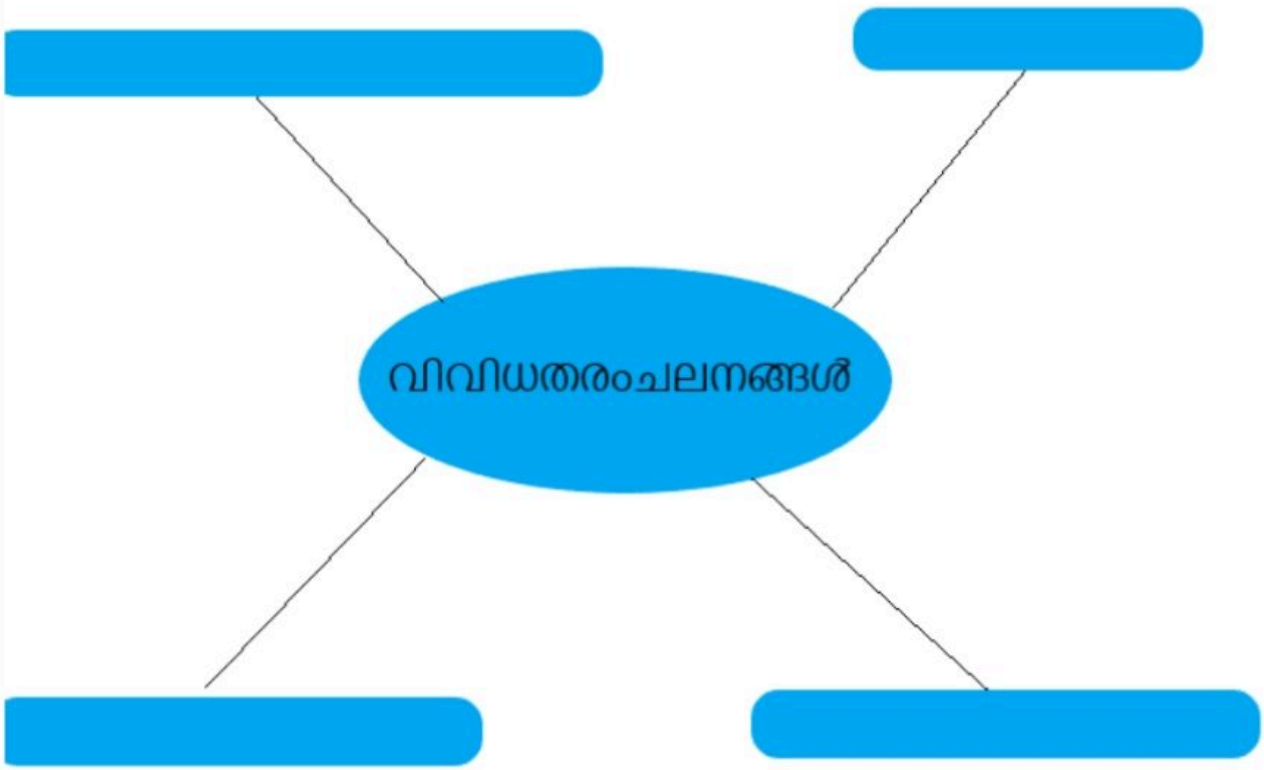
സ്റ്റാൻഡേർഡ് : 6
വീഷയം : അടിസ്ഥാന ശാസ്ത്രം
യൂണിറ്റ് : 4
ഘട്ടം : പദ്ധതിരേഖ
വർക്ക് ഷീറ്റ് നമ്പർ : 7

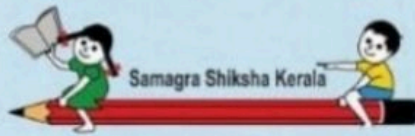
അവസാനം

വൈറ്റ് ബോർഡ് ഷീറ്റ്

താഴെ തന്നിരിക്കുന്ന ചലനങ്ങളിൽ നിന്നും ശരിയായവ തിരഞ്ഞെടുത്ത് പദസൂര്യൻ പൂർത്തിയാക്കുക

വർത്തുള്ള ചലനം, കമ്പനം, നേർരേഖാ ചലനം, ദോലനം, പൽചക്രം





മലയാളം പേര്. പത്തനംതിട്ട
ബി.ആർ.നിയുടെ പേര്. കോന്നി

സ്റ്റാൻഡേർഡ്	: 6
വിഷയം	: അടിസ്ഥാന ശാസ്ത്രം
യൂണിറ്റ്	: 4
പാഠം	: ചലനത്തിനൊപ്പം
വർക്ക് ഷീറ്റ് നമ്പർ	: 4

തുടർച്ച

വൈറ്റ് ബോർഡ് ഷീറ്റ്


താഴെ തന്നിരിക്കുന്ന ചിത്രങ്ങളിൽ നിന്നും വർത്തുള ചലനസാഹചര്യത്തിലുള്ള ചിത്രത്തിന് ചുറ്റും വട്ടമിടുക



മാമ്പഴം ഞെട്ടറ്റ് വീഴുന്നു.



പമ്പരം കറങ്ങുന്നു.



ലിഫ്റ്റ് ഉയരുന്നു.



കയറിൽ കെട്ടിയ കല്ല് വട്ടത്തിൽ കറക്കുന്നു.



വാഹനങ്ങളുടെ ചക്രം കറങ്ങുന്നു.