

ബില്ലയുടെ പേര്. മലപ്പുറം
ബി.ആർ.നിയുടെ പേര്. വണ്ടൂർ

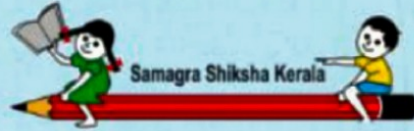
സ്റ്റാൻഡേർഡ്	: 7
വിഷയം	: സാമൂഹ്യശാസ്ത്രം
യൂണിറ്റ്	: 7
പാഠം	: ഭൂമിയും ജീവലോകവും
വർക്ക് ബുക്ക് നമ്പർ	: 01

ആമിംഗം,

വൈറ്റ് ബോർഡ് ഷീറ്റ്

**മണ്ണിന്റെ ഫലഭൂഷ്ഠിയെ
ദോഷകരമായി ബാധിക്കുന്ന
പ്രവർത്തനങ്ങൾ ഏതെല്ലാം എന്ന്
കണ്ടെത്തി എഴുതുക ?**

- * **കുന്നിടിക്കൽ**
- * **മരം വെച്ച് പിടിപ്പിക്കൽ**
- * **അശാസ്ത്രീയമായ കൃഷിരീതി**
- * **വനനശീകരണം**
- * **ജൈവ വളത്തിന്റെ ഉപയോഗം**
- * **പ്ലാസ്റ്റിക്കിന്റെ ഉപയോഗം**
- * **ശാസ്ത്രീയമായ കൃഷിരീതി**
- * **മണൽ വാരൽ**
- * **വയൽ നികത്തൽ**



ജില്ലയുടെ പേര്. മലപ്പുറം
 ബി.ആർ.നിയുടെ പേര്. വണ്ടൂർ

സ്റ്റാൻഡേർഡ്	:	7
വിഷയം	:	സാമൂഹ്യശാസ്ത്രം
യൂണിറ്റ്	:	7
പാഠം	:	ഭൂമിയും ജീവജാലവും
വർക്ക് ഷീറ്റ് നമ്പർ	:	02



വൈറ്റ് ബോർഡ് ഷീറ്റ്


കണ്ടുപിടിക്കാമോ?.

ശരിയായവ കണ്ടെത്തി എഴുതൂ..

*സമുദ്രനിരപ്പിൽ നിന്ന് 900 മീറ്ററിൽ അധികം ഉയരമുള്ളതും ചെങ്കുത്തായ വശങ്ങളോടു കൂടിയതുമായ ഭൂരൂപമാണ് _____?
 (സമതലങ്ങൾ,പീഠ ഭൂമികൾ, പർവ്വതങ്ങൾ)

* മുകൾഭാഗം ഏറെകുറെ പരന്നതും ചുറ്റുപാടുകളെ അപേക്ഷിച്ച് ഉയർന്നു നിൽക്കുന്നതുമായ ഭൂരൂപമാണ് _____?
 (പർവ്വതങ്ങൾ,സമതലങ്ങൾ, പീഠഭൂമികൾ)

* താരതമ്യേന താഴ്ന്നതും നിരപ്പായതുമായ വിശാല പ്രദേശമാണ് _____?
 (പീഠഭൂമികൾ ,സമതലങ്ങൾ, പർവ്വതങ്ങൾ)




മുഖ്യ ഓഫീസ് : മലപ്പുറം
 ഓഫീസ് : വണ്ടൂർ

വൈറ്റ് ബോർഡ് ഷീറ്റ്

ഘടകങ്ങൾ :	7
മിതം :	സാമൂഹ്യ ശാസ്ത്രം
ഘടിപ്പിച്ചിട്ടുള്ളത് :	07
കോഡ് :	സമീപം: മീറോറോ
മൊഴി നമ്പർ :	03

മുഖ്യ/സഹായക/അധ്യാപകൻ

ഭൂമിയിൽ ജലം ദ്രാവക രൂപത്തിൽ എവിടെയെല്ലാം കാണപ്പെടുന്നു എന്ന് കണ്ടെത്തി എഴുതുക?



മിസ്സസ്. കെ. മലപ്പുറം
 മി.ജി.ജി.എസ്. കെ. വണ്ടൂർ

ഘണ്ടകൾ :	7
മിതം :	സാമൂഹ്യശാസ്ത്രം
വേൾ :	07
കോഡ് :	എട്ടാം ഹിസ്റ്ററിയം
മേൽ പേജ് നമ്പർ :	04
മുദ്രണം/റവീട്ടു/അടവ്	

വൈറ്റ് ബോർഡ് ഷീറ്റ്

ശരിയായ ഉത്തരം ബ്രാക്കറ്റിൽ
 നിന്ന് എടുത്ത് എഴുതുക

1. ഭൂമിയുടെ മൂന്നിൽ രണ്ട് ഭാഗവും ജലമാണെങ്കിലും മനുഷ്യന് ഉപയോഗിക്കാൻ കഴിയുന്ന ജലത്തിന്റെ അളവ് എത്ര?
 (1 ശതമാനം, 1 ശതമാനത്തിന് താഴെ, 1 ശതമാനത്തിന് മുകളിൽ)
2. ജലം ഖര രൂപത്തിൽ കാണപ്പെടുന്നത് എവിടെയാണ്?
 (ധ്രുവപ്രദേശങ്ങളിൽ, അന്തരീക്ഷത്തിൽ, ഭൂമിക്കടിയിൽ)
3. കെട്ടിട നിർമ്മാണത്തിന് മണലിന് പകരം ഉപയോഗിക്കുന്നത് എന്ത്?
 (കളിമണ്ണ്, പാറപ്പൊടി, മേൽമണ്ണ്)