



ബില്ലയുടെ പേര്. പാലക്കാട്
ബി.ആർ.സിയുടെ പേര്. ബി. ആർ. സി. ഒറ്റപ്പാലം

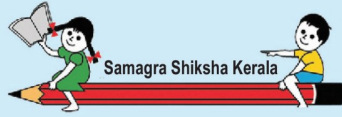
സ്റ്റാൻഡേർഡ് : 9
വിഷയം : സാമൂഹ്യ ശാസ്ത്രം - 2
യൂണിറ്റ് : 3
പാഠം : ദേശീയ വരുമാനം
വർക്ക് ഷീറ്റ് നമ്പർ : 1

വൈറ്റ് ബോർഡ് ഷീറ്റ്

ആരംഭം / തുടർച്ച / അവസാനം

ശരിയായത് യോജിപ്പിക്കുക

സമ്പത്തിനെ കുറിച്ചുള്ള പഠനം	സാമൂഹ്യശാസ്ത്രം
	സാമ്പത്തിക ശാസ്ത്രം
ആധുനിക സാമ്പത്തിക ശാസ്ത്രത്തിന്റെ പിതാവ്	ആഡം സ്മിത്ത്
	കാറൽ മാക്സ്
ഒരു കുടുംബത്തിന് 1 വർഷം വിവിധ മാർഗ്ഗങ്ങളിലൂടെ ലഭിക്കുന്ന വരുമാനമാണ്.	ദേശീയ വരുമാനം
	വാർഷിക വരുമാനം
ഒരു രാജ്യത്തിന്റെ ഒരു വർഷത്തെ മൊത്തം വരുമാനമാണ്.	വാർഷിക വരുമാനം
	ദേശീയ വരുമാനം



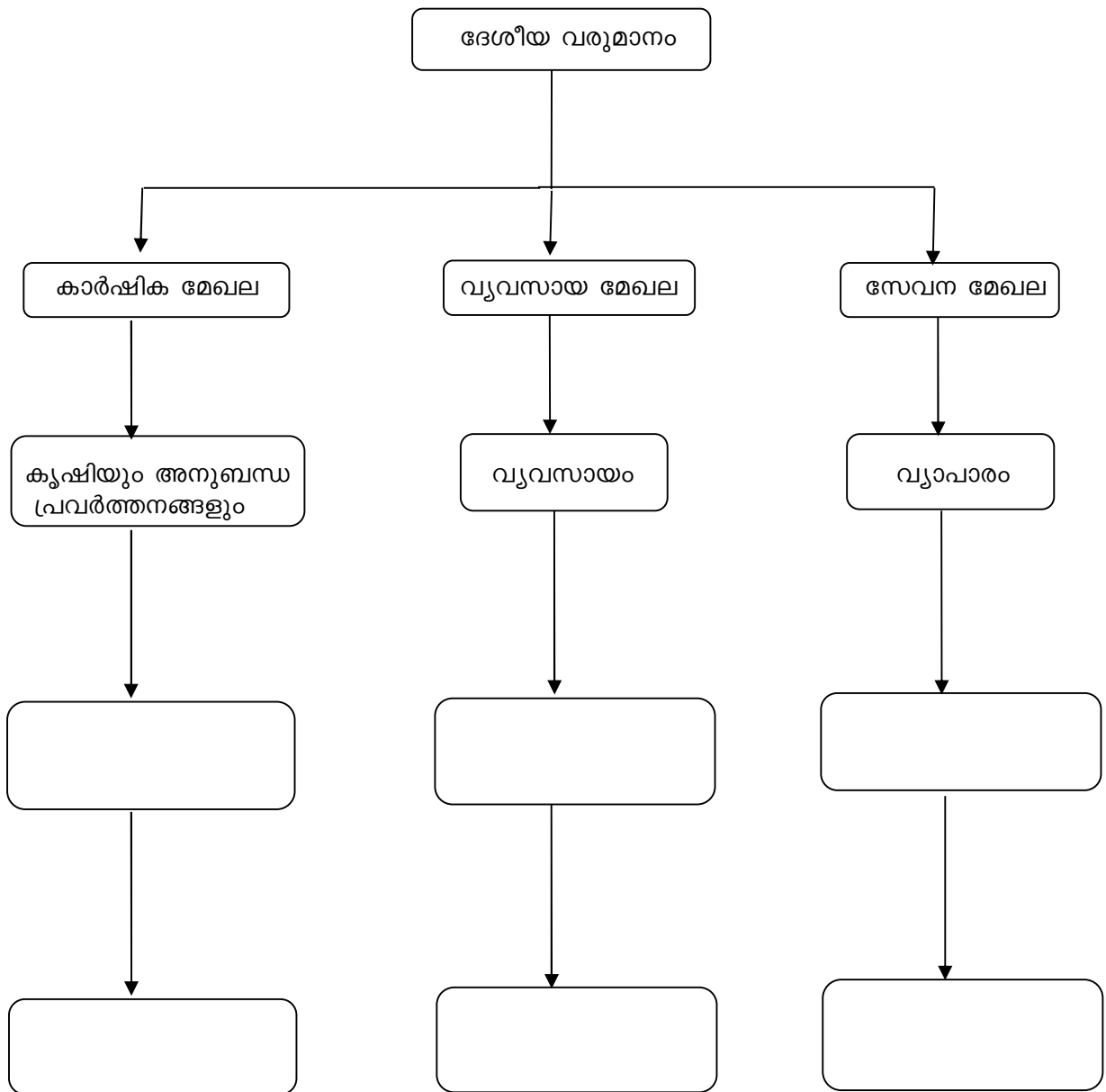
ബില്ലയുടെ പേര്. പാലക്കാട്
 ബി.ആർ.സിയുടെ പേര്. ബി. ആർ. സി. ഒറ്റപ്പാലം

സ്റ്റാൻഡേർഡ് : 9
 വിഷയം : സാമൂഹ്യ ശാസ്ത്രം - 2
 യൂണിറ്റ് : 3
 പാഠം : ദേശീയ വരുമാനം
 വർക്ക് ഷീറ്റ് നമ്പർ : 2

വൈറ്റ് ബോർഡ് ഷീറ്റ്

ആരംഭം / തുടർച്ച / അവസാനം

ഫ്ലോചാർട്ട് പൂർത്തിയാക്കുക.





ശില്പയുടെ പേര്. പാലക്കാട്
ബി.ആർ.സിയുടെ പേര്. ബി.ആർ.സി.ഒറ്റപ്പാലം

സ്റ്റാൻഡേർഡ്	: 9
വിഷയം	: സാമൂഹ്യ ശാസ്ത്രം - 2
യൂണിറ്റ്	: 3
ഘറം	: ദേശീയ വരുമാനം
വർക്ക് ഷീറ്റ് നമ്പർ	: 3

വൈറ്റ് ബോർഡ് ഷീറ്റ്

ആരംഭം / തുടർച്ച / അവസാനം

ബ്രേക്കറിൽ നിന്നും ശരിയായ ഉത്തരം എടുത്തെഴുതുക.

- ഒരു രാജ്യത്ത് ഉൽപ്പാദിപ്പിക്കപ്പെടുന്ന അന്തിമ സാധനങ്ങളുടേയും സേവനങ്ങളുടേയും പണമൂല്യം എന്ന് പറയുന്നു.

(മൊത്ത ആഭ്യന്തര ഉൽപ്പന്നം, മൊത്ത ദേശീയ ഉൽപ്പന്നം)

- രാജ്യത്തിന്റെ ആഭ്യന്തര അതിർത്തിക്കുള്ളിൽ ഉൽപ്പാദിപ്പിക്കുന്ന സാധനങ്ങളുടേയും സേവനങ്ങളുടേയും ആകെ പണമൂല്യംഎന്ന് പറയുന്നു.

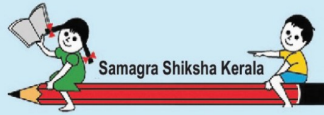
(മൊത്ത ദേശീയ ഉൽപ്പന്നം, അറ്റദേശീയ ഉൽപ്പന്നം)

- മൊത്ത ദേശീയ ഉൽപ്പന്നത്തിൽ നിന്ന് തേയ്മാന ചെലവ് കുറക്കുമ്പോൾ ലഭ്യമാകുന്ന തിന്..... എന്ന് പറയുന്നു.

(മൊത്ത ആഭ്യന്തര ഉൽപ്പന്നം, അറ്റ ദേശീയ ഉൽപ്പന്നം)

- ദേശീയ വരുമാനത്തെ മൊത്തം ജനസംഖ്യ കൊണ്ട് ഹരിക്കുമ്പോൾ കിട്ടുന്നത് ആണ്.

(പ്രതിശീർഷ വരുമാനം, അറ്റദേശീയ ഉൽപ്പന്നം)



ബില്ലയുടെ പേര്. പാലക്കാട്
ബി.ആർ.സിയുടെ പേര്. ബി. ആർ. സി. റെപ്പാലം

സ്റ്റാൻഡേർഡ്	: 9
വീഷയം	: സാമൂഹ്യ ശാസ്ത്രം - 2
യൂണിറ്റ്	: 3
ഫഠം	: ദേശീയ വരുമാനം
വർക്ക് ഷീറ്റ് നമ്പർ	: 4


വൈറ്റ് ബോർഡ് ഷീറ്റ്

ആരംഭം / തുടർച്ച / അവസാനം



ഉൽപ്പാദനം വരുമാനം ചെലവ് എന്നിവ പരസ്പരം ബന്ധപ്പെട്ടിരിക്കുന്നു.

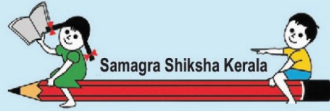
താഴെ തന്നിരിക്കുന്ന ശൃംഖല പൂർത്തിയാക്കുക.

ചെലവ് വർദ്ധിക്കുന്നു.



ഉൽപ്പാദനം വർദ്ധിപ്പിക്കുന്നു.





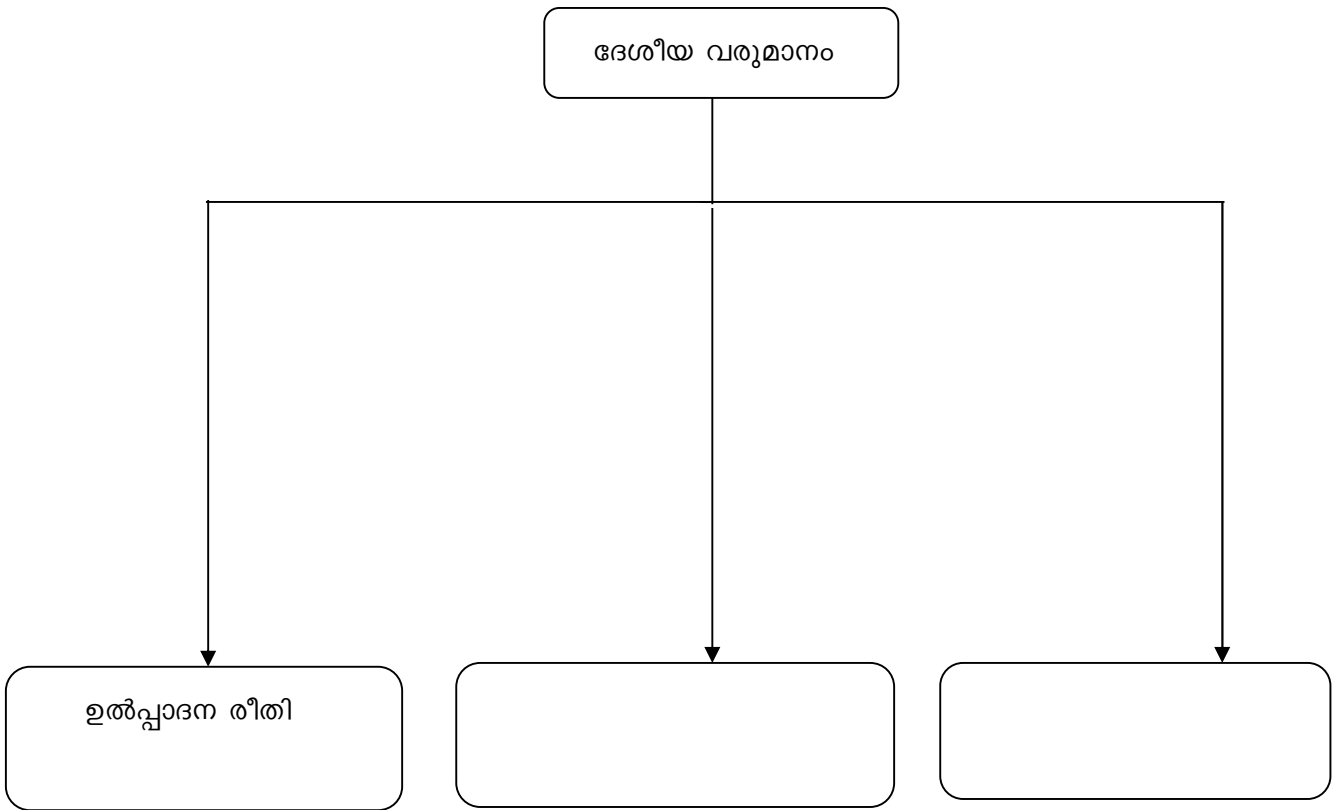
ബില്ലയുടെ പേര്. പാലക്കാട്
ബി.ആർ.സിയുടെ പേര്. ബി. ആർ. സി. ഒറ്റപ്പാലം

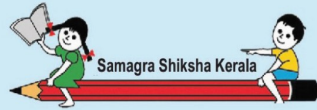
സ്റ്റാൻഡേർഡ് : 9
വിഷയം : സാമൂഹ്യ ശാസ്ത്രം - 2
യൂണിറ്റ് : 3
പാഠം : ദേശീയ വരുമാനം
വർക്ക് ഷീറ്റ് നമ്പർ : 5

വൈറ്റ് ബോർഡ് ഷീറ്റ്

ആരംഭം / തുടർച്ച / അവസാനം

ദേശീയ വരുമാനം കണക്കാക്കുന്ന രീതി
താഴെ തന്നിരിക്കുന്ന ഫ്ലോചാർട്ട് പൂർത്തിയാക്കുക.





ബിലയുടെ പേര്. പാലക്കാട്
ബി.ആർ.സിയുടെ പേര്. ബി. ആർ. സി. ഒറ്റപ്പാലം

സ്റ്റാൻഡേർഡ് : 9
വിഷയം : സാമൂഹ്യ ശാസ്ത്രം - 2
യൂണിറ്റ് : 3
പാഠം : ദേശീയ വരുമാനം
വർക്ക് ഷീറ്റ് നമ്പർ : 6

വൈറ്റ് ബോർഡ് ഷീറ്റ്

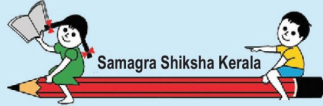
ആരംഭം / തുടർച്ച / അവസാനം

ഇന്ത്യയിലെ ദേശീയ വരുമാനത്തിൽ വിവിധ മേഖലകളുടെ സംഭാവന

ഇന്ത്യയിലെ GDP യിലെ വിവിധ മേഖലകളുടെ വിഹിതം (ശതമാനത്തിൽ)			
മേഖല	2015-16	2016-17	2017-18 (PE)
പ്രാഥമിക മേഖല	20.10	20.35	19.56
ദ്വിതീയ മേഖല	27.42	26.88	26.59
തൃതീയ മേഖല	52.48	52.77	53.85
ആകെ	100	100	100

മുകളിൽ കൊടുത്തിരിക്കുന്ന പട്ടിക പരിശോധിച്ച് താഴെ തന്നിരിക്കുന്ന ചോദ്യങ്ങൾക്ക് ഉത്തരമെഴുതുക.

- 2015 -2016 വർഷത്തിൽ ഏത് മേഖലയിൽ നിന്നാണ് ദേശീയവരുമാനത്തിലേക്ക് കൂടുതൽ വിഹിതം ലഭിച്ചത്?
- 2016-2017 വർഷത്തിൽ ദേശീയ വരുമാനത്തിലേക്ക് ഏറ്റവും കുറവ് വിഹിതം നൽകിയത് ഏത് മേഖലയിലാണ്.
- 2015 -16, 2016 -17, 2017- 18 വർഷങ്ങളിൽ വ്യവസായ മേഖല (ദ്വിതീയ മേഖല) ഏതു സ്ഥാനത്താണ് നിൽക്കുന്നത്.



ബില്ലയുടെ പേര്. പാലക്കാട്
ബി.ആർ.സി.യുടെ പേര്. ബി. ആർ. സി. ഒറ്റപ്പാലം

സ്റ്റാൻഡേർഡ് : 9
വിഷയം : സാമൂഹ്യ ശാസ്ത്രം - 2
യൂണിറ്റ് : 3
ഘടന : ദേശീയ വരുമാനം
വർക്ക് ഷീറ്റ് നമ്പർ : 7

വൈറ്റ് ബോർഡ് ഷീറ്റ്

ആരംഭം / തുടർച്ച / അവസാനം

ഫ്ലോ ചാർട്ട് പൂർത്തിയാക്കുക.

