

ജില്ലയുടെ പേര്. **തൃശ്ശൂർ**
 ബി.ആർ.സി യുടെ പേര്. **വടക്കാഞ്ചേരി**

സ്റ്റാൻഡേർഡ് : 10
 വിഷയം : ഗണിതം
 യൂണിറ്റ് : 1
 പാഠം : സമാന്തരശ്രോണികൾ
 വർക്ക്ഷീറ്റ് നമ്പർ : 01


ആരംഭം

വൈറ്റ് ബോർഡ് ഷീറ്റ്

ഞങ്ങൾ രാമപുരം സ്കൂളിലെ വിദ്യാർത്ഥികളാണ്.



ഞങ്ങളോടൊപ്പം കാണുന്ന സംഖ്യകൾ ഓരോരുത്തർക്കും പരീക്ഷയിൽ ലഭിച്ച മാർക്കുകൾ ആണ്. ഇതിൽ നിന്നും 1 ൽ അവസാനിക്കുന്ന സംഖ്യകൾ ക്രമത്തിൽ എഴുതാമോ?



ജില്ലയുടെ പേര്. **തൃശ്ശൂർ**
 ബി.ആർ.സി യുടെ പേര്. **വടക്കാഞ്ചേരി**

സ്റ്റാൻഡേർഡ്	: 10
വിഷയം	: ഗണിതം
യൂണിറ്റ്	: 1
പാഠം	: സമാന്തരശ്രേണികൾ
വർക്ക്ഷീറ്റ് നമ്പർ	: 02

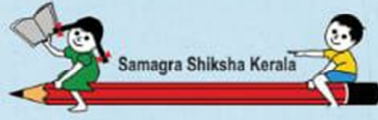
തുടർച്ച

വൈറ്റ് ബോർഡ് ഷീറ്റ്

വിന്നേഴ്സ് ക്ലബിന്റെ വാർഷികത്തോട് അനുബന്ധിച്ചു നടത്തുന്ന കായിക മത്സരത്തിൽ പങ്കാളികളാണ് ഞങ്ങൾ. ഞങ്ങളുടെ കൈവശം ഇരിക്കുന്ന സംഖ്യകൾ ഞങ്ങളുടെ ചെസ്റ്റ് നമ്പറുകളാണ്.



ഇവയിൽ 5ൽ അവസാനിക്കുന്ന സംഖ്യകൾ കണ്ടെത്തി ക്രമത്തിൽ എഴുതാമോ ?



ജില്ലയുടെ പേര്. **തൃശ്ശൂർ**
 ബി.ആർ.സി യുടെ പേര്. **വടക്കാഞ്ചേരി**

സ്റ്റാൻഡേർഡ്	: 10
വിഷയം	: ഗണിതം
യൂണിറ്റ്	: 1
പാഠം	: സമാന്തരശ്രേണികൾ
വർക്ക്ഷീറ്റ് നമ്പർ	: 03


തുടർച്ച

വൈറ്റ് ബോർഡ് ഷീറ്റ്

കുട്ടുകാർക്കെല്ലാം പൂക്കൾ ഇഷ്ടമല്ലേ? ഇതു എന്റെ ചേട്ടന്റെ പൂച്ചെടികൾ വിൽക്കുന്ന കടയാണ്.ചെടിയിൽ കാണുന്ന സംഖ്യകൾ ഓരോ ചെടിയുടേയും വിലകളാണ്.



ഈ സംഖ്യകളിൽ നിന്നും '0' യിൽ അവസാനിക്കുന്ന സംഖ്യകൾ ക്രമത്തിൽ എഴുതാമോ?




ജില്ലയുടെ പേര്. **തൃശ്ശൂർ**
 ബി.ആർ.സി യുടെ പേര്. **വടക്കാഞ്ചേരി**

സ്റ്റാൻഡേർഡ്	: 10
വിഷയം	: ഗണിതം
യൂണിറ്റ്	: 1
പാഠം	: സമാന്തരശ്രേണികൾ
വർക്ക്ഷീറ്റ് നമ്പർ	: 04

വൈറ്റ് ബോർഡ് ഷീറ്റ്

തുടർച്ച




ചക്കിപ്പച്ചയ്ക്കു വാങ്ങിയ മീനുകളെ കണ്ടില്ലെങ്കൂട്ടുകാരെ? മീനുകളിൽ കാണുന്ന സംഖ്യകൾ ഓരോ മീനിന്റെയും വിലകളാണ്. ഈ വിലകളെല്ലാം സമാന്തര ശ്രേണിയായി എഴുതി താഴെപറയുന്ന ചോദ്യങ്ങളുടെ ഉത്തരങ്ങൾ കണ്ടെത്തുമല്ലോ?

ആദ്യപദം=

അവസാന പദം=

പദങ്ങളുടെ എണ്ണം=

ചക്കി പച്ചയ്ക്കു നിറം കൊടുക്കാൻ മറക്കരുതെ....



ജില്ലയുടെ പേര്. **തൃശ്ശൂർ**
 ബി.ആർ.സി യുടെ പേര്. **വടക്കാഞ്ചേരി**

സ്റ്റാൻഡേർഡ്	: 10
വിഷയം	: ഗണിതം
യൂണിറ്റ്	: 1
പാഠം	: സമാന്തരശ്രോണികൾ
വർക്ക്ഷീറ്റ് നമ്പർ	: 05

വൈറ്റ് ബോർഡ് ഷീറ്റ്

തുടർച്ച

ജോമിക്കുട്ടനെ പദങ്ങളുടെ തുക കാണുവാനുള്ള സമവാക്യം പൂർത്തിയാക്കാൻ സഹായിക്കുമോ?

പദങ്ങളുടെ തുക =


$$\frac{(\text{ആദ്യപദം} + \text{അവസാനപദം}) \times \text{-----}}{2}$$

2



പൊതു വ്യത്യാസം

പദങ്ങളുടെ എണ്ണം



ജില്ലയുടെ പേര്. **തൃശ്ശൂർ**
 ബി.ആർ.സി യുടെ പേര്. **വടക്കാഞ്ചേരി**

സ്റ്റാൻഡേർഡ്	: 10
വിഷയം	: ഗണിതം
യൂണിറ്റ്	: 1
പാഠം	: സമാന്തരശ്രേണികൾ
വർക്ക്ഷീറ്റ് നമ്പർ	: 06

വൈറ്റ് ബോർഡ് ഷീറ്റ്

തുടർച്ച

ഞങ്ങൾ 5 പേരും കളിക്കൂട്ടുകാരാണ്
 ഞങ്ങളുടെ എല്ലാവരുടേയും കൈവശം
 മിഠായികളും ഉണ്ട്.




സ്നൈഡറിൽ ആദ്യം കയറുന്നയാളുടെ കൈവശം 2ഉം
 അവസാനം കയറുന്നയാളുടെ കൈവശം 10ഉം
 മിഠായികളാണ് ഉള്ളത് .എങ്കിൽ ഞങ്ങൾ 5 പേരുടേയും
 കൈവശം ആകെയുള്ള മിഠായികൾ എത്രയാണെന്ന്
 കണ്ടു പിടിക്കാമോ?

സൂചകങ്ങൾ:-

ആദ്യപദം = 2

അവസാനപദം =10

പദങ്ങളുടെ എണ്ണം=5















ജില്ലയുടെ പേര്. **തൃശ്ശൂർ**
 ബി.ആർ.സി യുടെ പേര്. **വടക്കാഞ്ചേരി**


സ്റ്റാൻഡേർഡ് : 10
 വിഷയം : ഗണിതം
 യൂണിറ്റ് : 1
 പാഠം : സമാന്തരശ്രോണികൾ
 വർക്ക്ഷീറ്റ് നമ്പർ : 07

വൈറ്റ് ബോർഡ് ഷീറ്റ്

തുടർച്ച

 3	 5	 7	 9
 5	 6	 8	 11
 3	 6	 9	 12

മുകളിൽ കൊടുത്തിരിക്കുന്ന ശ്രോണികളിൽ സമാന്തരശ്രോണി ഏതാണെന്ന് കണ്ടെത്തി എഴുതാമോ?



ജില്ലയുടെ പേര്. **തൃശ്ശൂർ**
 ബി.ആർ.സി യുടെ പേര്. **വടക്കാഞ്ചേരി**

സ്റ്റാൻഡേർഡ്	: 10
വിഷയം	: ഗണിതം
യൂണിറ്റ്	: 1
പാഠം	: സമാന്തരശ്രേണികൾ
വർക്ക്ഷീറ്റ് നമ്പർ	: 08

വൈറ്റ് ബോർഡ് ഷീറ്റ്


തുടർച്ച

താഴെ കൊടുത്തിരിക്കുന്ന ശ്രേണികളുടെ തുടർച്ചയായുള്ള രണ്ട് പദങ്ങൾ കൂടി കണ്ടുപിടിക്കാമോ ?

2,4,6,,

1,2,3,,

3,6,9,,



ജില്ലയുടെ പേര്. **തൃശ്ശൂർ**
 ബി.ആർ.സി യുടെ പേര്. **വടക്കാഞ്ചേരി**


സ്റ്റാൻഡേർഡ്	: 10
വിഷയം	: ഗണിതം
യൂണിറ്റ്	: 1
പാഠം	: സമാന്തരശ്രേണികൾ
വർക്ക്ഷീറ്റ് നമ്പർ	: 09

വൈറ്റ് ബോർഡ് ഷീറ്റ്

തുടർച്ച



പിറന്നാൾ സമ്മനമായി അച്ഛൻ മീനൂവിന് വാങ്ങിയ തൊപ്പികൾ കണ്ടോ കൂട്ടുകാരെ? തൊപ്പിയുടെ മുകളിലുള്ള സംഖ്യകൾ അവയുടെ വിലകളാണ്. വിലകളെ സമാന്തര ശ്രേണിയിൽ എഴുതി ഈ ശ്രേണിയുടെ പൊതു വ്യത്യാസം എത്രയെന്ന് കണ്ടു പിടിക്കാമോ?




ജില്ലയുടെ പേര്. **തൃശ്ശൂർ**
 ബി.ആർ.സി യുടെ പേര്. **വടക്കാഞ്ചേരി**

സ്റ്റാൻഡേർഡ്	: 10
വിഷയം	: ഗണിതം
യൂണിറ്റ്	: 1
പാഠം	: സമാന്തരശ്രോണികൾ
വർക്ക്ഷീറ്റ് നമ്പർ	: 10


വൈറ്റ് ബോർഡ് ഷീറ്റ്

തുടർച്ച

താഴെ തന്നിരിക്കുന്ന സമാന്തര ശ്രോണിയിൽ നിന്നും അഞ്ചാം പദംകണ്ടെത്തി നിറം നൽകുക



3 6 9 12 15 18 21



ജില്ലയുടെ പേര്. **തൃശ്ശൂർ**
ബി.ആർ.സി യുടെ പേര്. **വടക്കാഞ്ചേരി**


സ്റ്റാൻഡേർഡ്	: 10
വിഷയം	: ഗണിതം
യൂണിറ്റ്	: 1
പാഠം	: സമാന്തരശ്രോണികൾ
വർക്ക്ഷീറ്റ് നമ്പർ	: 11

വൈറ്റ് ബോർഡ് ഷീറ്റ്

തുടർച്ച

പുഞ്ചയൂർ പഞ്ചായത്തിന്റെ ശുചീകരണ പ്രവർത്തനത്തിനായി ഓരോ വാർഡിൽ നിന്നും ഓരോ ആഴ്ചയിലേക്കും തിരഞ്ഞെടുത്തിരിക്കുന്ന കുട്ടികളുടെ എണ്ണം സമാന്തരശ്രോണിയിലാണ് ക്രമീകരിച്ചിരിക്കുന്നത്. എങ്കിൽ പതിനഞ്ചാം വാർഡിൽ നിന്നും എത്ര കുട്ടികളെ ആയിരിക്കും തിരഞ്ഞെടുത്തിരിക്കുക?





ജില്ലയുടെ പേര്. **തൃശ്ശൂർ**
 ബി.ആർ.സി യുടെ പേര്. **വടക്കാഞ്ചേരി**

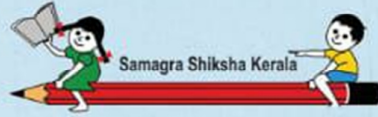
സ്റ്റാൻഡേർഡ്	: 10
വിഷയം	: ഗണിതം
യൂണിറ്റ്	: 1
പാഠം	: സമാന്തരശ്രോണികൾ
വർക്ക്ഷീറ്റ് നമ്പർ	: 12

വൈറ്റ് ബോർഡ് ഷീറ്റ്

തുടർച്ച

നീനൂവിന്റെ വീട്ടിലെ ചെടിച്ചട്ടികൾ പ്രത്യേകരീതിയിലാണ് വച്ചിരിക്കുന്നത്. ചെടിച്ചട്ടികളിൽ എഴുതിയിരിക്കുന്ന സംഖ്യകൾ സമാന്തരശ്രോണിയിലാണ്. അതിൽ ചില സംഖ്യകൾ മാഞ്ഞുപോയിട്ടുണ്ട്. അവ കണ്ടുപിടിച്ച് എഴുതാമോ?





ജില്ലയുടെ പേര്. **തൃശ്ശൂർ**
ബി.ആർ.സി യുടെ പേര്. **വാടക്കാഞ്ചേരി**

സ്റ്റാൻഡേർഡ് : 10
വിഷയം : ഗണിതം
യൂണിറ്റ് : 1
പാഠം : സമാന്തരശ്രേണികൾ
വർക്ക്ഷീറ്റ് നമ്പർ : 13


വൈറ്റ് ബോർഡ് ഷീറ്റ്

തുടർച്ച

n-ാം പദം കാണാനുള്ള ശരിയായ സമവാക്യം \checkmark മാർക്ക് ചെയ്യുക

$$x_n = x_1 + (n-1)d$$

$$x_n = x_1 - (n-1)d$$



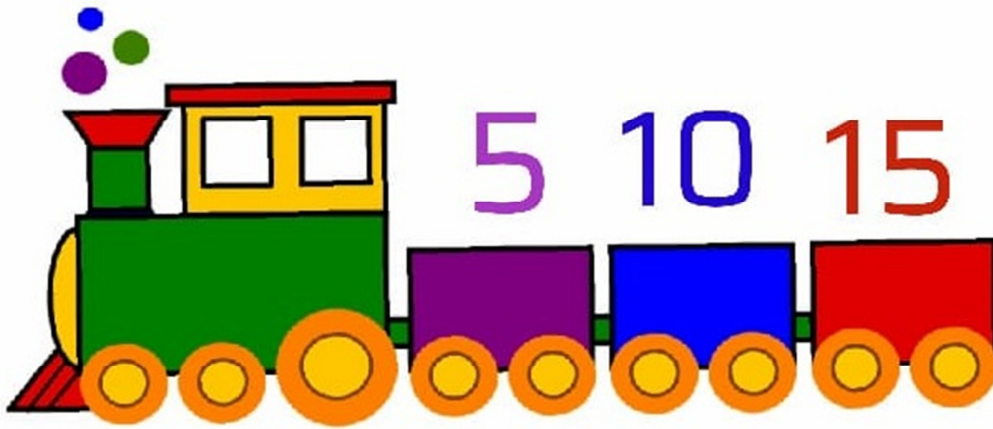
ജില്ലയുടെ പേര്. **തൃശ്ശൂർ**
 ബി.ആർ.സി യുടെ പേര്. **വടക്കാഞ്ചേരി**


സ്റ്റാൻഡേർഡ്	: 10
വിഷയം	: ഗണിതം
യൂണിറ്റ്	: 1
പാഠം	: സമാന്തരശ്രോണികൾ
വർക്ക്ഷീറ്റ് നമ്പർ	: 14

വൈറ്റ് ബോർഡ് ഷീറ്റ്

തുടർച്ച

5,10,15 സമാന്തര ശ്രോണിയിലെ 10-ാം പദം കണ്ടെത്തുക





ജില്ലയുടെ പേര്. **തൃശ്ശൂർ**
 ബി.ആർ.സി യുടെ പേര്. **വടക്കാഞ്ചേരി**

സ്റ്റാൻഡേർഡ്	: 10
വിഷയം	: ഗണിതം
യൂണിറ്റ്	: 1
പാഠം	: സമാന്തരശ്രോണികൾ
വർക്ക്ഷീറ്റ് നമ്പർ	: 15

വൈറ്റ് ബോർഡ് ഷീറ്റ്

തുടർച്ച

കൂട്ടുകാരെ കണ്ടെത്തി യോജിപ്പിക്കൂ 



സ്ഥാനവ്യത്യാസം




ആദ്യപദം



പൊതു വ്യത്യാസം





ജില്ലയുടെ പേര്. **തൃശ്ശൂർ**
 ബി.ആർ.സി യുടെ പേര്. **വടക്കാഞ്ചേരി**


സ്റ്റാൻഡേർഡ്	: 10
വിഷയം	: ഗണിതം
യൂണിറ്റ്	: 1
പാഠം	: സമാന്തരശ്രേണി
വർക്ക്ഷീറ്റ് നമ്പർ	: 16

വൈറ്റ് ബോർഡ് ഷീറ്റ്

തുടർച്ച



ചിന്നുവിന്റെ വീട്ടിലെ ചെടിച്ചട്ടികളിൽ എഴുതിയിരിക്കുന്ന സംഖ്യകൾ അവയുടെ സ്ഥാനത്തിനനുസരിച്ച് ക്രമമായി എഴുതുക? **12** ാം സ്ഥാനത്തെ ചെടിച്ചട്ടിയുടെ സംഖ്യ എത്രയെന്ന് എഴുതുക?



സ്റ്റാൻഡേർഡ്	: 10
വിഷയം	: ഗണിതം
യൂണിറ്റ്	: 1
പാഠം	: സമാന്തരശ്രേണികൾ
വർക്ക്ഷീറ്റ് നമ്പർ	: 17


ജില്ലയുടെ പേര്. **തൃശ്ശൂർ**
 ബി.ആർ.സി യുടെ പേര്. **വടക്കാഞ്ചേരി**

വൈറ്റ് ബോർഡ് ഷീറ്റ്

തുടർച്ച



പൊതു വ്യത്യാസം -1 വരുന്ന വിധത്തിൽ ഓരോ വൃത്തത്തിനകത്തും സംഖ്യകൾ എഴുതുകയാണ് രാജു. രണ്ടാമത്തെ വൃത്തത്തിനകത്ത് 5 എന്നാണ് എഴുതിയിരിക്കുന്നത്. എങ്കിൽ അഞ്ചാമത്തെ വൃത്തത്തിനകത്തെ സംഖ്യ എഴുതാൻ രാജുവിനെ സഹായിക്കുക



ജില്ലയുടെ പേര്. **തൃശ്ശൂർ**
 ബി.ആർ.സി യുടെ പേര്. **വടക്കാഞ്ചേരി**


സ്റ്റാൻഡേർഡ് : 10
 വിഷയം : ഗണിതം
 യൂണിറ്റ് : 1
 പാഠം : സമാന്തരശ്രോണികൾ
 വർക്ക്ഷീറ്റ് നമ്പർ : 18

വൈറ്റ് ബോർഡ് ഷീറ്റ്

തുടർച്ച

*	1	2	3	4
*	4	3	2	1
*	2	4	6	8

പൊതു വ്യത്യാസം -1 ആയ സമാന്തരശ്രോണികളെന്തിനെ എഴുതുക?



ജില്ലയുടെ പേര്. **തൃശ്ശൂർ**
 ബി.ആർ.സി യുടെ പേര്. **വടക്കാഞ്ചേരി**


സ്റ്റാൻഡേർഡ്	: 10
വിഷയം	: ഗണിതം
യൂണിറ്റ്	: 1
പാഠം	: സമാന്തരശ്രോണികൾ
വർക്ക്ഷീറ്റ് നമ്പർ	: 19

വൈറ്റ് ബോർഡ് ഷീറ്റ്

തുടർച്ച

ഓട്ട മത്സരത്തിനെത്തിയ മിട്ടു മൂയലിനും കുട്ടുകാർക്കും കിട്ടിയ സംഖ്യകൾ സമാന്തരശ്രോണിയായി എഴുതി പൊതുവ്യത്യാസം കാണുക?





ജില്ലയുടെ പേര്. **തൃശ്ശൂർ**
 ബി.ആർ.സി യുടെ പേര്. **വടക്കാഞ്ചേരി**


സ്റ്റാൻഡേർഡ്	: 10
വിഷയം	: ഗണിതം
യൂണിറ്റ്	: 1
പാഠം	: സമാന്തരശ്രേണികൾ
വർക്ക്ഷീറ്റ് നമ്പർ	: 20

വൈറ്റ് ബോർഡ് ഷീറ്റ്

തുടർച്ച



ഈ മിറായി ഈ കൂട്ടത്തിൽ പെടുമോ?



ജില്ലയുടെ പേര്. **തൃശ്ശൂർ**
 ബി.ആർ.സി യുടെ പേര്. **വടക്കാഞ്ചേരി**


സ്റ്റാൻഡേർഡ്	: 10
വിഷയം	: ഗണിതം
യൂണിറ്റ്	: 1
പാഠം	: സമാന്തരശ്രേണികൾ
വർക്ക്ഷീറ്റ് നമ്പർ	: 21

വൈറ്റ് ബോർഡ് ഷീറ്റ്

തുടർച്ച



സമാന്തര ശ്രേണിയിലെ തുടർച്ചയായ ചില സംഖ്യകളാണ് ബലൂണിൽ എഴുതിയിരിക്കുന്നത്. വിട്ടുപോയ ഭാഗത്തെ സംഖ്യ എഴുതി ചിത്രത്തിന് നിറം നൽകുക.




ജില്ലയുടെ പേര്. **തൃശ്ശൂർ**
 ബി.ആർ.സി യുടെ പേര്. **വടക്കാഞ്ചേരി**

സ്റ്റാൻഡേർഡ്	: 10
വിഷയം	: ഗണിതം
യൂണിറ്റ്	: 1
പാഠം	: സമാന്തരശ്രേണികൾ
വർക്ക്ഷീറ്റ് നമ്പർ	: 22


വൈറ്റ് ബോർഡ് ഷീറ്റ്

തുടർച്ച

മാളുവിന്റെ കുടുംബാംഗങ്ങൾക്ക് കിസ്സ് മത്സരത്തിൽ കിട്ടിയ സ്കോർ കണ്ടോ കൂട്ടുകാരെ.. . . .



മധുപദം ഉപയോഗിച്ച് മാളുവിന്റെ കുടുംബത്തിന്റെ ആകെ സ്കോർ കാണുക?



ജില്ലയുടെ പേര്. **തൃശ്ശൂർ**
 ബി.ആർ.സി യുടെ പേര്. **വടക്കാഞ്ചേരി**

സ്റ്റാൻഡേർഡ്	: 10
വിഷയം	: ഗണിതം
യൂണിറ്റ്	: 1
പാഠം	: സമാന്തരശ്രേണികൾ
വർക്ക്ഷീറ്റ് നമ്പർ	: 23

വൈറ്റ് ബോർഡ് ഷീറ്റ്

തുടർച്ച

ജോമി



ടോമി




ജാക്കി



ഞങ്ങൾ സഹോദരങ്ങളാണ്.

ഞങ്ങളുടെ വയസ്സുകൾ സമാന്തരശ്രേണിയിലാണ്.
 പൊതു വ്യത്യാസം 2 ആണെങ്കിൽ ഞങ്ങളുടെ
 വയസ്സുകൾ കണ്ടെത്തി ശ്രേണിയായി എഴുതുക?



ജില്ലയുടെ പേര്. **തൃശ്ശൂർ**
 ബി.ആർ.സി യുടെ പേര്. **വടക്കാഞ്ചേരി**

സ്റ്റാൻഡേർഡ്	: 10
വിഷയം	: ഗണിതം
യൂണിറ്റ്	: 1
പാഠം	: സമാന്തരശ്രോണികൾ
വർക്ക്ഷീറ്റ് നമ്പർ	: 24


വൈറ്റ് ബോർഡ് ഷീറ്റ്

തുടർച്ച

അമ്മുവിനെ സഹായിക്കാമോ?



സമാന്തര ശ്രോണിയായി വരുന്ന വിധം മറ്റു കുടങ്ങൾക്ക് നമ്പർ ഇടാൻ അമ്മുവിനെ സഹായിക്കാമോ?




ജില്ലയുടെ പേര്. **തൃശ്ശൂർ**
 ബി.ആർ.സി യുടെ പേര്. **വടക്കാഞ്ചേരി**


സ്റ്റാൻഡേർഡ്	: 10
വിഷയം	: ഗണിതം
യൂണിറ്റ്	: 1
പാഠം	: സമാന്തരശ്രേണികൾ
വർക്ക്ഷീറ്റ് നമ്പർ	: 25

വൈറ്റ് ബോർഡ് ഷീറ്റ്

തുടർച്ച



പേനയുടെ വിലകൾ സമാന്തര ശ്രേണിയായി എഴുതുക?
 ഒരേ നിറമുള്ള പേനകളുടെ വിലകൾ ജോടികളാക്കി
 എഴുതി തുക കാണുക?



ജില്ലയുടെ പേര്. **തൃശ്ശൂർ**
 ബി.ആർ.സി യുടെ പേര്. **വടക്കാഞ്ചേരി**

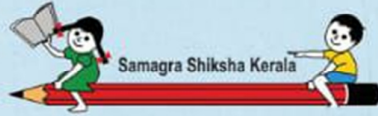
സ്റ്റാൻഡേർഡ്	: 10
വിഷയം	: ഗണിതം
യൂണിറ്റ്	: 1
പാഠം	: സമാന്തരശ്രേണികൾ
വർക്ക്ഷീറ്റ് നമ്പർ	: 26

വൈറ്റ് ബോർഡ് ഷീറ്റ്

തുടർച്ച



**ചിണ്ടന്റെ വാഴത്തോട്ടം കണ്ടില്ലേ.
 തൊട്ടടുത്ത വരിയിൽ എത്ര വാഴകൾ ഉണ്ടാകും?.
 ഇതൊരു സംഖ്യാശ്രേണിയായി എഴുതുക**







ജില്ലയുടെ പേര്. **തൃശ്ശൂർ**
 ബി.ആർ.സി യുടെ പേര്. **വടക്കാഞ്ചേരി**


സ്റ്റാൻഡേർഡ് : 10
 വിഷയം : ഗണിതം
 യൂണിറ്റ് : 1
 പാഠം : സമാന്തരശ്രേണികൾ
 വർക്ക്ഷീറ്റ് നമ്പർ : 27

വൈറ്റ് ബോർഡ് ഷീറ്റ്

തുടർച്ച

 $1 + 10 = 11$	 $2 + \square = 11$
 $3 + \square = 11$	 $4 + \square = 11$

മാതൃകയിൽ തന്നിരിക്കുന്നതു പോലെ പൂർത്തിയാക്കുക




ജില്ലയുടെ പേര്. **തൃശ്ശൂർ**
 ബി.ആർ.സി യുടെ പേര്. **വടക്കാഞ്ചേരി**

സ്റ്റാൻഡേർഡ്	: 10
വിഷയം	: ഗണിതം
യൂണിറ്റ്	: 1
പാഠം	: സമാന്തരശ്രോണികൾ
വർക്ക്ഷീറ്റ് നമ്പർ	: 28

വൈറ്റ് ബോർഡ് ഷീറ്റ്


തുടർച്ച



മധ്യത്തിലുള്ള ആപ്പിൾ മരത്തിൽ 10 ആപ്പിളുകളുണ്ട്
 ആകെ 5 ആപ്പിൾ മരങ്ങൾ
 ഇത് ഒരു സമാന്തര ശ്രോണിയാണെങ്കിൽ



തുക എത്രയായിരിക്കും




ജില്ലയുടെ പേര്. **തൃശ്ശൂർ**
 ബി.ആർ.സി യുടെ പേര്. **വടക്കാഞ്ചേരി**


സ്റ്റാൻഡേർഡ്	: 10
വിഷയം	: ഗണിതം
യൂണിറ്റ്	: 1
പാഠം	: സമാന്തരശ്രോണികൾ
വർക്ക്ഷീറ്റ് നമ്പർ	: 29

വൈറ്റ് ബോർഡ് ഷീറ്റ്

തുടർച്ച



ഇതേ ക്രമത്തിൽ അഞ്ചാമത്തെ വരിവരെ ക്രമീകരിക്കാൻ ആകെ എത്ര പൂക്കൾ വേണ്ടി വരും?




ജില്ലയുടെ പേര്. **തൃശ്ശൂർ**
 ബി.ആർ.സി യുടെ പേര്. **വടക്കാഞ്ചേരി**

സ്റ്റാൻഡേർഡ്	: 10
വിഷയം	: ഗണിതം
യൂണിറ്റ്	: 1
പാഠം	: സമാന്തരശ്രേണികൾ
വർക്ക്ഷീറ്റ് നമ്പർ	: 30

അവസാനം

വൈറ്റ് ബോർഡ് ഷീറ്റ്



കിട്ടൂ കുരങ്ങന് ഇതേ ക്രമത്തിൽ അഞ്ചാമത്തെ
 വരിവരെ ക്രമീകരിക്കാൻ ആകെ എത്ര
 ആപ്പിൾ വേണ്ടി വരും?



Filename: Doc1Whitboard WORKSHEET FILE
Directory: C:\Users\wky\Desktop\worksheet
Template: C:\Users\wky\AppData\Roaming\Microsoft\Templates\Normal.dotm
Title:
Subject:
Author: LENOVO
Keywords:
Comments:
Creation Date: 6/6/2021 12:15:00 AM
Change Number: 159
Last Saved On: 6/11/2021 4:06:00 PM
Last Saved By: wky
Total Editing Time: 558 Minutes
Last Printed On: 6/11/2021 4:36:00 PM
As of Last Complete Printing
Number of Pages: 30
Number of Words: 1,710 (approx.)
Number of Characters: 9,753 (approx.)