

ഓലയുടെ പേര്. കണ്ണൂർ
 ബി അർ സിയുടെ പേര്. ഇരിട്ടി

സ്റ്റാൻഡേർഡ് : III
 വിഷയം : ഗണിതം
 യൂണിറ്റ് : 3
 പാഠം : ഏഴുതയുങ്കാറ്റാം
 വർക്ക് ഷീറ്റ് നമ്പർ : 1/16

ദിനപത്രം

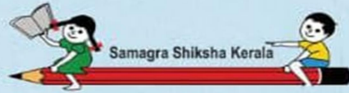
വൈറ്റ് ബോർഡ് ഷീറ്റ്

കുട്ടുകാരെ29 മിറായിയിൽ എത്ര പത്തിന്റെ കുട്ടങ്ങൾ ഉണ്ട്? എത്ര ഒന്നുകൾ ഉണ്ട് കണ്ടെത്താമോ..?



പത്തിന്റെ കുട്ടങ്ങൾ

ഒന്നുകൾ



ബിഗ്ഗിയുടെ പേര്. കണ്ണാൾ
ബി ആർ സിയുടെ പേര്. ഇരിട്ടി

സ്റ്റാൻഡേർഡ് : III
വിഷയം : ഗണിതം
യൂണിറ്റ് : 3
പാഠം : ഏഴുത്തൂക്കപ്പാഠം
വർക്ക് ഷീറ്റ് നമ്പർ : 2/16


തുടർച്ച

വൈറ്റ് ബോർഡ് ഷീറ്റ്

ഇന്ന് അമ്മുവിന്റെ പിറന്നാൾ ആണ്. അമ്മു 50 മിഠായികൾ ക്ലാസിൽ കൊണ്ടുവന്ന് 29 കുട്ടികൾക്ക് വിതരണം ചെയ്തു. എങ്കിൽ അമ്മുവിന്റെ കൈയിൽ എത്ര മിഠായികൾ ബാക്കി ഉണ്ടാകും.....

നിറം നൽകാം....

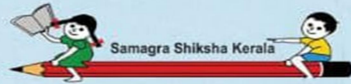
29 മിഠായികൾക്ക് നിറം നൽകൂ...



അമ്മുവിന്റെ കൈയിൽ എത്ര മിഠായികൾ ഉണ്ടായിരുന്നു?.....

എത്രകുട്ടികൾക്കാണ് മിഠായി കൊടുത്തത്?.....(നിറം കൊടുത്തവ)

അമ്മുവിന്റെ കൈയിൽ എത്ര മിഠായികൾ ബാക്കി ഉണ്ട്?.....(നിറം കൊടുക്കാത്തവ)






ബിലുതുടരൂ പേര്: കണ്ണൂർ
 ബരി ആർ സീതുടരൂ പേര്: ഇരിട്ടി 9

സ്റ്റാൻഡേർഡ് : III
 വിഷയം : ഗണിതം
 യുണിറ്റ് : 3
 പാഠം : ഏഴുതുരുക്കുറ്റാഠം
 വർക്ക് ഷീറ്റ് നമ്പർ : 3/16

തുടരൂ

വൈറ്റ് ബോർഡ് ഷീറ്റ്

സ്റ്റോക്ക് രജിസ്റ്റർ

വില	ഇനം	സ്റ്റോക്ക്
10	 നോട്ട് ബുക്ക്	75
6	 പേന	25
3	 പെൻസിൽ	50

- സ്കൂൾ സ്റ്റോറിലെ ഇനത്തെ വിൽപന...

നോട്ട് ബുക്ക്- 25

പേന - 15

പെൻസിൽ- 30

- ഇവ ഓരോന്നും ഇനി എത്ര ബാക്കിയുണ്ട്?

നോട്ട് ബുക്ക്-

പേന -

പെൻസിൽ-

നോട്ട് ബുക്ക്

$$10+10+10+10+10+10+10+5=75$$

ഇതിൽ നിന്നും $10+10+5=25$ ആണ് എടുത്തു മാറ്റേണ്ടത്.

എങ്കിൽ ബാക്കി എത്ര?

പേന

$$10+10+5=25$$

ഇതിൽ നിന്നും ഇന്ന് വിറ്റത് $10+5=15$

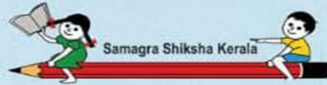
ബാക്കി എത്ര?.....

പെൻസിൽ

$$10+10+10+10+10=50$$

ഇന്നത്തെ വിൽപന $10+10+10= 30$

ബാക്കിയെത്ര പെൻസിൽ?.....



ബില്ലയുടെ പേര്. കണ്ണൂർ
ബി ആർ സിയുടെ പേര്. ഇരിട്ടി 9

സ്റ്റാൻഡേർഡ് : III
വീഷയം : ഗണിതം
യൂണിറ്റ് : 3
പാഠം : എട്ടുത്തുമാറ്റം
വർക്ക് ഷീറ്റ് നമ്പർ : 4/16

തുടർച്ച

വൈറ്റ് ബോർഡ് ഷീറ്റ്

പ്രത്യേകത കണ്ടെത്തൂ...

$$994 - 90 = \dots\dots\dots$$

$$994 - 180 = \dots\dots\dots$$

$$994 - 270 = \dots\dots\dots$$

$$994 - 450 = \dots\dots\dots$$

$$994 - 630 = \dots\dots\dots$$

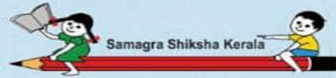
$$993 - 630 = \dots\dots\dots$$

$$993 - 810 = \dots\dots\dots$$

$$993 - 180 = \dots\dots\dots$$

$$994 - 810 = \dots\dots\dots$$

$$963 - 363 = \dots\dots\dots$$



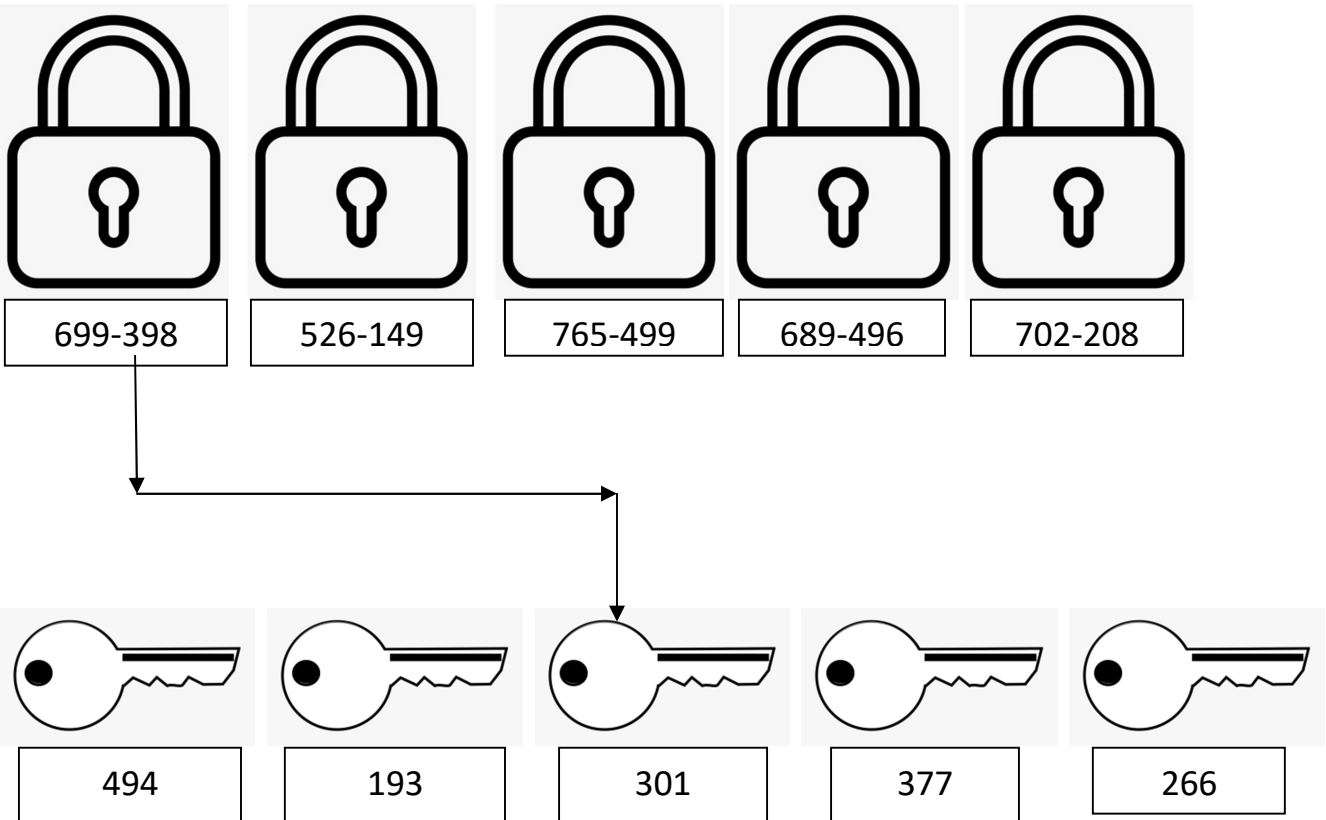
ശില്പയുടെ പേര്. കണ്ണൂർ
ബി ആർ സിയുടെ പേര്. ഇരിട്ടി

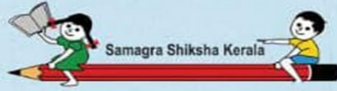
സ്റ്റാൻഡേർഡ് : III
വിഷയം : ഗണിതം
യൂണിറ്റ് : 3
പാഠം : എട്ടുത്തമുഭാഗം
വർക്ക് ഷീറ്റ് നമ്പർ : 5/16

തുടർച്ച

വൈറ്റ് ബോർഡ് ഷീറ്റ്

സ്കൂൾ അടക്കാൻ തുടങ്ങിയപ്പോഴാണ് താഴെകളും താക്കോലുകളും പരസ്പരം മാറിയത് ശ്രദ്ധയിൽ പെട്ടത് .. താഴെകളിലും താക്കോലുകളിലും നൽകിയ ക്രിയ ചെയ്താൽ പ്രശ്നം പരിഹരിക്കാം...





Samagra Shiksha Kerala

ബിലയാടെ പെര്. കണ്ണൂർ
ബി അരൂർ സിയായടെ പെര്. ഇരിട്ടി

9

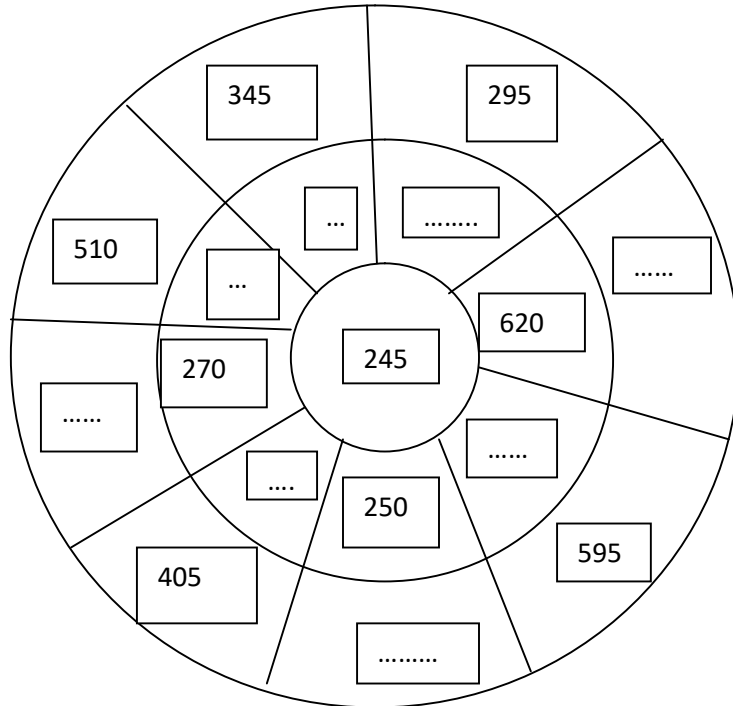
വൈറ്റ് ബോർഡ് ഷീറ്റ്

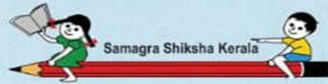
സ്റ്റാൻഡേർഡ് : III
വിഷയം : ഗണിതം
യാണിറ്റ് : 3
പാഠം : ഏഴുതയാങ്കാറ്റാ
വർക്ക് ഷീറ്റ് നമ്പർ : 6/16

തുടർച്ച

വ്യയാസം എഴുതാം...

നടുവിലെ സംഖ്യ വ്യയാസമായി കിട്ടുന്ന രീതിയിൽ ചക്രത്തിലെ എല്ലാ സംഖ്യകളും എഴുതുക....





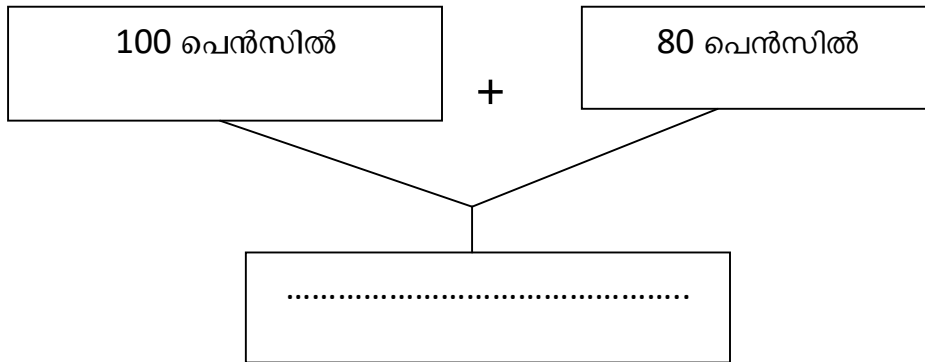
ബില്ലയുടെ പേര്: കണ്ണൂർ
ബി അർ സിയുടെ പേര്: ഇരിട്ടി

സ്റ്റാൻഡേർഡ് : III
വിഷയം : ഗണിതം
യൂണിറ്റ് : 3
പാഠം : എടുത്തുകൊട്ടാം
വർക്ക് ഷീറ്റ് നമ്പർ : 7/16

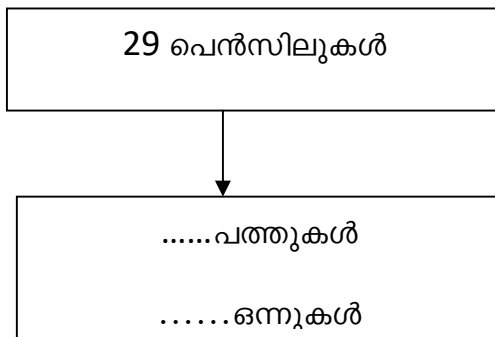
തുടർച്ച

വൈറ്റ് ബോർഡ് ഷീറ്റ്

സ്റ്റോക്കിലുള്ള പെൻസിൽ

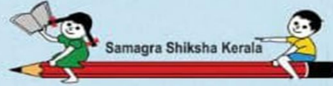


അമ്മു വാങ്ങിയത്



- 180 ൽ നിന്നും എത്ര പത്തുകൾ എടുത്തുമാറ്റണം ?
- 2 പത്തുകൾ എടുത്തു മാറ്റിയാൽ ബാക്കിയെത്ര?
- 160 ൽ നിന്നും എത്ര ഒന്നുകളാണ് എടുത്തു മാറ്റേണ്ടത്?
- $180 - 20 = \dots\dots$
- $160 - 9 = \dots\dots$

..... ..നൂറുകൾ..... പത്തുകൾ..... ഒന്നുകൾ



ബില്ലയുടെ പേര്. കണ്ണൂർ
 ബി ആർ സിയുടെ പേര്. ഇരിട്ടി 9

സ്റ്റാൻഡേർഡ് : III
 വിഷയം : ഗണിതം
 യൂണിറ്റ് : 3
 പാഠം : ഏഴുയന്മുളപ്പാഠം
 വർക്ക് ഷീറ്റ് നമ്പർ : B/16

തുടരൂ

വൈറ്റ് ബോർഡ് ഷീറ്റ്

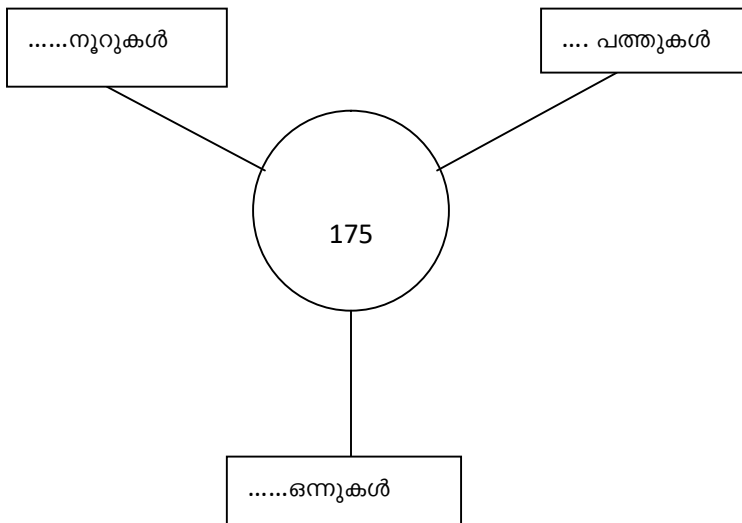
നോട്ടുകളെ പരിചയപ്പെടാം.....

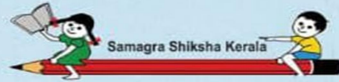


ആകെ എത്ര രൂപ ?

.....

സംഖ്യ പൂർണ്ണപം പൂരിപ്പിക്കുക...





ബിലുതൃടേ പേഴ്. കണ്ണൂർ
ബി അർ സിതൃടേ പേഴ്. ഇരിട്ടി

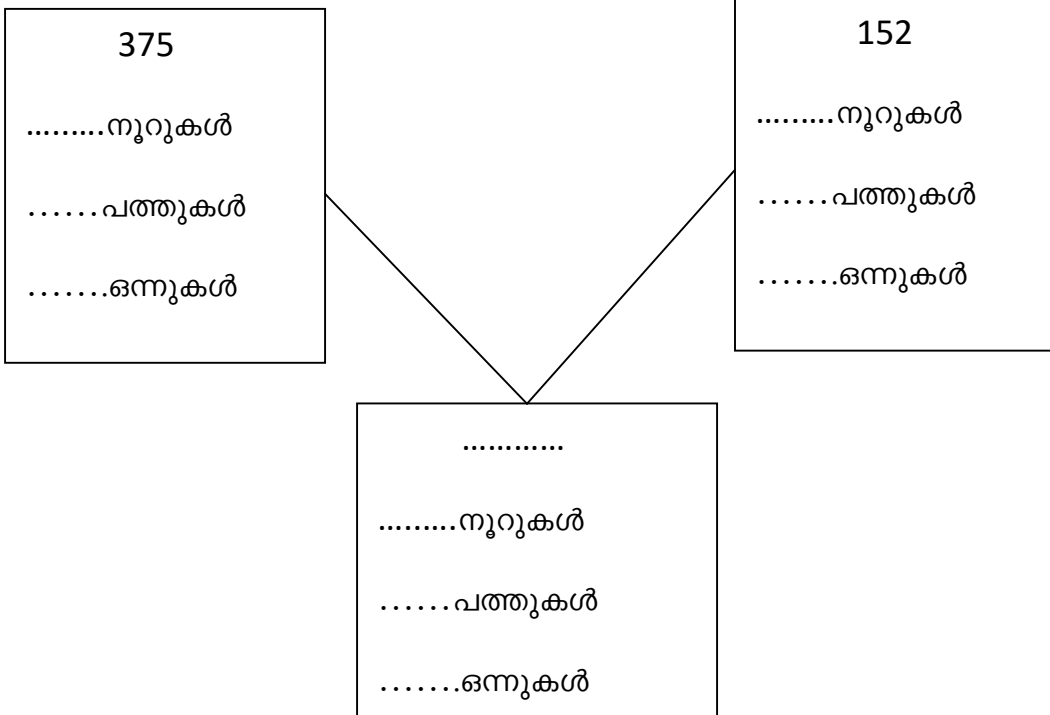
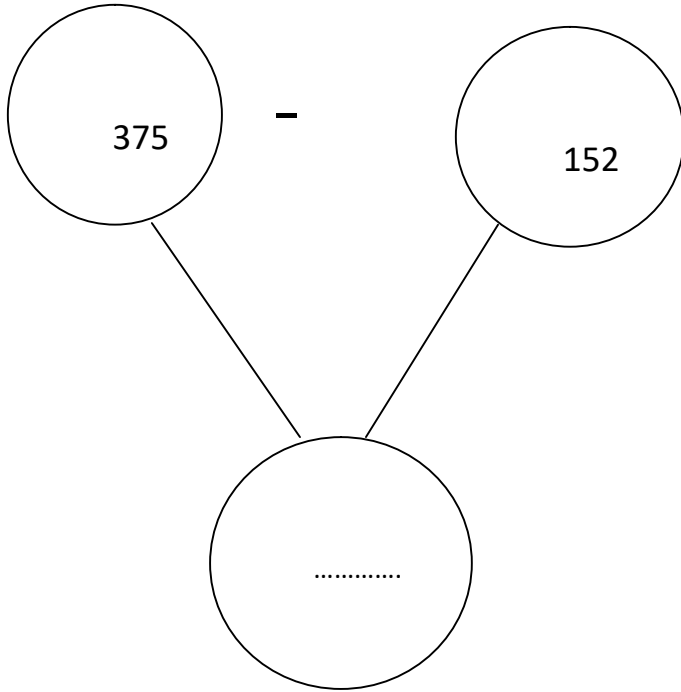
9

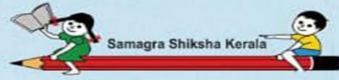
സ്റ്റാൻഡേർഡ് : III
വിഷയം : ഗണിതം
യൂണിറ്റ് : 3
പാഠം : ഏഴുതൃടേ കറുറ്റം
വർക്ക് ഷീറ്റ് നമ്പർ : 9/16

തൃടേ

വൈറ്റ് ബോർഡ് ഷീറ്റ്

കുറുക്കാമോ.?






ബിലയുടെ പേര്. കണ്ണൂർ
ബി ആർ സിയുടെ പേര്. ഇരിട്ടി

സ്റ്റാൻഡേർഡ് : III
വിഷയം : ഗണിതം
യൂണിറ്റ് : 3
പാഠം : എട്ടുയയുമാറ്റം
വർക്ക് ഷീറ്റ് നമ്പർ : 10/16

വൈറ്റ് ബോർഡ് ഷീറ്റ്

തുടർച്ച

നമുക്കൊരു ചെക്ക് പുരിപ്പിച്ചാലോ.....



പേര് :

തീയതി:

അക്കൗണ്ട് നം:

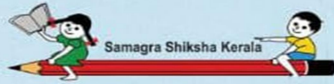
പിൻവലിക്കേണ്ട തുക:

അക്കത്തിൽ:

അക്ഷരത്തിൽ:

പേര്:

ഒപ്പ്:



ശില്പയുടെ പേര്. കണ്ണാൾ
ബി ആർ സിയുടെ പേര്. ഇരിട്ടി 9

സ്റ്റാൻഡേർഡ് : III
വിഷയം : ഗണിതം
യൂണിറ്റ് : 3
പാഠം : എടുത്തുമാറ്റാം
വർക്ക് ഷീറ്റ് നമ്പർ : 11/16

തുടരൂച്ച

വൈറ്റ് ബോർഡ് ഷീറ്റ്

അമ്മയുടെ പാസ് ബുക്ക് ...

അമ്മുവിന്റെ അമ്മയുടെ പാസ് ബുക്കിൽ 952 രൂപ ഉണ്ടായിരുന്നു. അമ്മുവിന് കമാപുസ്തകം വങ്ങിക്കുന്നതിനായി പണം പിൻവലിച്ചു. ഇപ്പോൾ പാസ് ബുക്കിൽ 227 രൂപ ഉണ്ട്. എങ്കിൽ അമ്മ എത്ര രൂപയാണ് ബേങ്കിൽ നിന്നും പിൻവലിച്ചത്.

അമ്മുവിന്റെ അമ്മയുടെ പാസ് ബുക്കിൽ ഉണ്ടായിരുന്ന തുക

പിൻവലിച്ചതിന് ശേഷം അക്കൗണ്ടിൽ ബാക്കിയുള്ള തുക

സ്ഥാന വില അനുസരിച്ച് ഇവ ക്രമപ്പെടുത്തിയാലോ?

നൂറുകൾ	പത്തുകൾ	ഒന്നുകൾ
9	5	2
2	2	7
.....

അപ്പോൾ അമ്മുവിന്റെ അമ്മ എത്ര രൂപയായിരിക്കും ബാങ്കിൽ നിന്നും പിൻവലിച്ചത്..?

നമുക്കൊന്ന് കണ്ടെത്തിയാലോ...

2 ഒന്നുകളിൽ നിന്നും 7 ഒന്നുകൾ എടുത്തുമാറ്റാൻ പറ്റുമോ..?

5 പത്തുകളിൽ നിന്നും 1 പത്ത് എടുത്ത് 2 ഒന്നിനോട് ചേർത്താൽ എത്രയാകും.?.....

12 ഒന്നുകളിൽ നിന്നും 7 ഒന്നുകൾ എടുത്തു മാറ്റിയാൽ എത്ര കിട്ടും.?

എങ്കിൽ ഇനി എത്ര പത്തുകൾ ബാക്കിയുണ്ട്..?

4 പത്തുകളിൽ നിന്നും 2 പത്തുകൾ എടുത്തുമാറ്റിയാൽ ബാക്കി എത്ര?.....

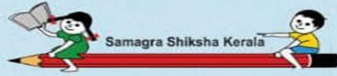
9 നൂറുകളിൽ നിന്നും 2 നൂറുകൾ എടുത്തുമാറ്റിയാൽ ബാക്കി എത്ര?.....

ഇപ്പോൾ നമുക്ക് കിട്ടിയ സംഖ്യകളെ മുകളിലുള്ള കോളത്തിൽ എഴുതി ചേർത്താലോ...

ബാക്കിൽ നിന്നും എത്ര രൂപയാണ് അമ്മുവിന്റെ അമ്മ പിൻവലിച്ചത്?.....

ഈ സംഖ്യകളെ സ്ഥാന വില അനുസരിച്ച് എഴുതിയാലോ....

.....നൂറുകൾ.....പത്തുകൾ.....ഒന്നുകൾ



ബില്ലയുടെ പേര്: കണ്ണൂർ
ബി ആർ സിയാുടെ പേര്: ഇരിട്ടി

സ്റ്റാൻഡേർഡ്	: III
വിഷയം	: ഗണിതം
യൂണിറ്റ്	: 3
പാഠം	: ഏഴുതത്വമാറ്റം
വർക്ക് ഷീറ്റ് നമ്പർ	: 12/16

വൈറ്റ് ബോർഡ് ഷീറ്റ്

അമ്മയുടെ കൈയിൽ 4 നൂറ് രൂപ നോട്ടുകളും 5 പത്തുരൂപ നോട്ടുകളും ഉണ്ട്. അതിൽ നിന്നും 120 രൂപ അനുവിനുകൾക്കി. എങ്കിൽ അമ്മയുടെ കൈയിൽ ഇപ്പോൾ എത്ര രൂപ ബാക്കിയുണ്ട്.? ഏതെല്ലാം നോട്ടുകൾ ?

അമ്മയുടെ കൈയിലുള്ള നോട്ടുകൾ....



4 നൂറ് രൂപ + 5 പത്തു രൂപ =

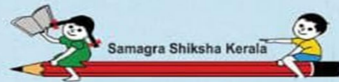
അനുവിന് അമ്മ നൽകിയത് രൂപ.

4 നൂറുകൾ - 1 നൂറ് =നൂറുകൾ

5 പത്തുകൾ- 2 പത്തുകൾ= പത്തുകൾ

ബാക്കി വന്ന നോട്ടുകൾ= 3 നൂറുകൾ+ 3 പത്തുകൾ=രൂപ.

അമ്മയുടെ കൈയിൽ ഏതെല്ലാം നോട്ടുകളാണ് ഉള്ളത്.....



ബില്ലയുടെ പേര്. കണ്ണൂർ
ബി അർ സിയുടെ പേര്. ഇരിട്ടി

9

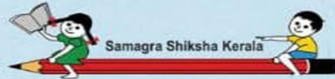
വൈറ്റ് ബോർഡ് ഷീറ്റ്

സ്റ്റാൻഡേർഡ് : III
വിഷയം : ഗണിതം
യൂണിറ്റ് : 3
പാഠം : ഏഴുത്തുകൾ 9990
വർക്ക് ഷീറ്റ് നമ്പർ : 13/18

തുടർച്ച

450 ൽ നിന്നും 120 കുറച്ചാൽ എത്ര കിട്ടും?

നൂറുകൾ	പത്തുകൾ	ഒന്നുകൾ
4	5	0
1	2	0
.....



Samagra Shiksha Kerala
 ബിഡ്യയുടെ പേര്. കണ്ണൂർ
 ഡി ആർ സിയുടെ പേര്. ഇരിട്ടി

സ്റ്റാൻഡേർഡ് : 111
 വിഷയം : ഗണിതം
 യൂണിറ്റ് : 3
 പാഠം : എടുത്തുമാറ്റാം
 വർക്ക് ഷീറ്റ് നമ്പർ : 14/16

തുടർച്ച

വൈറ്റ് ബോർഡ് ഷീറ്റ്

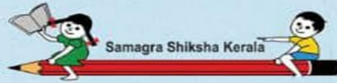
കളിനോട്ടുകൾ ഒട്ടിക്കാം.....

336 രൂപയുടെ കളിനോട്ടുകൾ ചുവടെ കൊടുത്ത കളങ്ങളിൽ ഒട്ടിക്കുക.

നൂറുകൾ	പത്തുകൾ	ഒന്നുകൾ

ഈ കളിനോട്ടുകളിൽനിന്നും 111 രൂപയുടെ നോട്ടുകൾ എടുത്തുമാറ്റിയാൽ ബാക്കി എത്ര?

.....



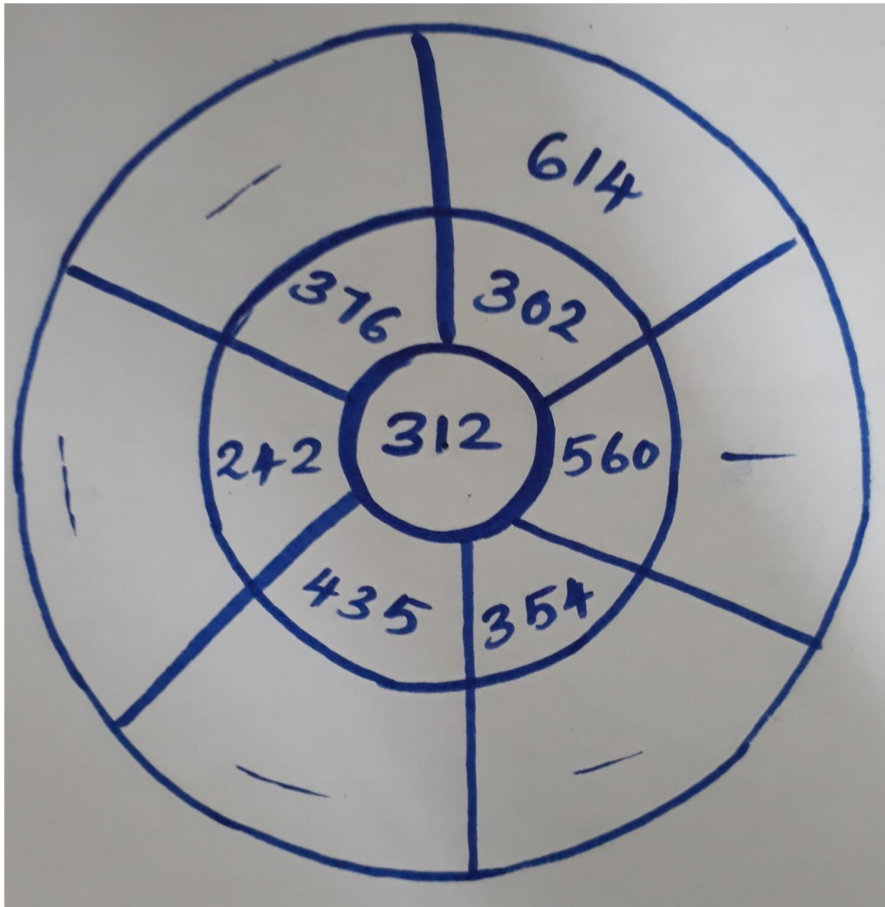
ബിലയാടെ പേര്. കണ്ണൂർ
ബി അരൂർ സിയായടെ പേര്. ഇണ്ടി 9

സ്റ്റാൻഡേർഡ്	: III
വിഷയം	: ഗണിതം
യൂണിറ്റ്	: 3
പാഠം	: എടുത്തയാങ്കുറ്റം
വർക്ക് ഷീറ്റ് നമ്പർ	: 15/16

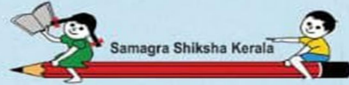
തുടർച്ച

വൈറ്റ് ബോർഡ് ഷീറ്റ്

സംഖ്യാചക്രം..



നടുവിലുള്ള വട്ടത്തിലെ സംഖ്യയോട് തൊട്ടടുത്ത വട്ടത്തിലെ സംഖ്യ കൂട്ടിയാൽ പുറത്തേ വട്ടത്തിലെ സംഖ്യ കിട്ടും



ബിരുദധരണ പേര്. കണ്ണൂർ
ബിരുദധരണ പേര്. ഇരിട്ടി

9

വൈറ്റ് ബോർഡ് ഷീറ്റ്

സ്റ്റാൻഡേർഡ് : III
വിഷയം : ഗണിതം
യൂണിറ്റ് : 3
പാഠം : ഏഴുതയ്യങ്കുളം
വർക്ക് ഷീറ്റ് നമ്പർ : 16/16

അവസാനം

സംഖ്യാശ്രണി പൂർത്തിയാക്കൂ.....

1. 60,50,40,.....,.....,.....
2. 600,500,400,.....,.....,.....
3. 300,250,200,.....,.....,.....
4. 350,290,240,.....,.....,.....
5. 128,64,32,.....,.....,.....