



ജില്ലയുടെ പേര് : തിരുവനന്തപുരം
 ബി.ആർ.സി.യുടെ പേര് : നെയ്യാറ്റിൻകര

സ്റ്റാൽഡേർഡ് : 4
 വിഷയം : ഗണിതം
 യൂണിറ്റ് : 2
 പാഠം : സമയചക്രം
 വർക്ക് ഷീറ്റ് നമ്പർ : 1

വൈറ്റ് ബോർഡ് ഷീറ്റ്

ആരംഭം

പറയാമോ?

പ്രവർത്തനങ്ങൾ	സമയം
രാവിലെ എഴുന്നേൽക്കുന്നത്?	
പ്രഭാത ഭക്ഷണം?	
സ്കൂളിൽ പോകുന്നത്?	
സ്കൂളിൽനിന്നും തിരിച്ചെത്തുന്നത്?	
ഉറങ്ങുന്നത്?	



ജില്ലയുടെ പേര് : തിരുവനന്തപുരം
 ബി.ആർ.സി.യുടെ പേര് : നെയ്യാറ്റിൻകര

സ്റ്റാൽഡേർഡ് : 4
 വിഷയം : ഗണിതം
 യൂണിറ്റ് : 2
 പാഠം : സമയചക്രം
 വർക്ക് ഷീറ്റ് നമ്പർ : 2

വൈറ്റ് ബോർഡ് ഷീറ്റ്

തുടർച്ച

സമയമെത്ര?

മണിക്കൂർ സൂചി 8 ലും മിനിട്ട് സൂചി 12 ലും?	
മണിക്കൂർ സൂചി 10 ലും മിനിട്ട് സൂചി 12 ലും?	
മണിക്കൂർ സൂചി 5 ലും മിനിട്ട് സൂചി 12 ലും?	
മണിക്കൂർ സൂചി 7 ലും മിനിട്ട് സൂചി 12 ലും?	






ജില്ലയുടെ പേര് : തിരുവനന്തപുരം
ബി.ആർ.സി.യുടെ പേര് : നെയ്യാറ്റിൻകര

സ്റ്റാൻഡേർഡ് : 4
വിഷയം : ഗണിതം
യൂണിറ്റ് : 2
പാഠം : സമയചക്രം
വർക്ക് ഷീറ്റ് നമ്പർ : 3

വൈറ്റ് ബോർഡ് ഷീറ്റ്

തുടർച്ച

സമയം കണ്ടെത്താമോ?



ജില്ലയുടെ പേര് : തിരുവനന്തപുരം
 ബി.ആർ.സി.യുടെ പേര് : നെയ്യാറ്റിൻകര

സ്റ്റാൽഡേർഡ് : 4
 വിഷയം : ഗണിതം
 യൂണിറ്റ് : 2
 പാഠം : സമയചക്രം
 വർക്ക് ഷീറ്റ് നമ്പർ : 4

വൈറ്റ് ബോർഡ് ഷീറ്റ്

തുടർച്ച

സമയം

ക്ലോക്കിൽ വരച്ചു യോജിപ്പിക്കാമോ?

<p>2 മണി 15 മിനിട്ട് (രണ്ടേകാൽ)</p>	
<p>4 മണി 30 മിനിട്ട് (നാലര)</p>	
<p>6 മണി 45 മിനിട്ട് (ആറേമൂക്കാൽ)</p>	



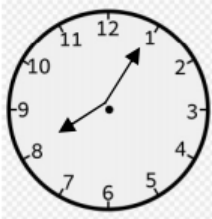
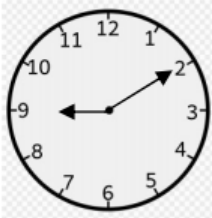
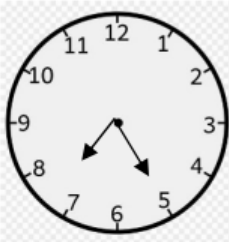
ജില്ലയുടെ പേര് : തിരുവനന്തപുരം
ബി.ആർ.സി.യുടെ പേര് : നെയ്യാറ്റിൻകര

സ്റ്റാൻഡേർഡ് : 4
വിഷയം : ഗണിതം
യൂണിറ്റ് : 2
പാഠം : സമയചക്രം
വർക്ക് ഷീറ്റ് നമ്പർ : 5

വൈറ്റ് ബോർഡ് ഷീറ്റ്

തുടർച്ച

ശരിയായ സമയം വരച്ച് യോജിപ്പിക്കാമോ ?

	<p>9 മണി 10 മിനിട്ട്</p>
	<p>7 മണി 25 മിനിട്ട്</p>
	<p>8 മണി 5 മിനിട്ട്</p>



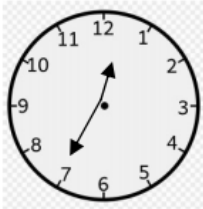
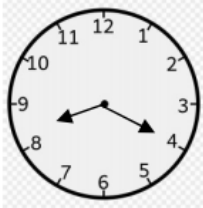
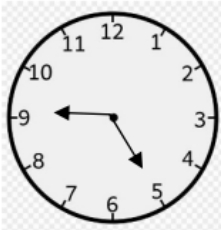
ജില്ലയുടെ പേര് : തിരുവനന്തപുരം
 ബിരുദാനന്തര പേര് : നെയ്യാറ്റിൻകര

സ്റ്റാൽഡേർഡ് : 4
 വിഷയം : ഗണിതം
 യൂണിറ്റ് : 2
 പാഠം : സമയചക്രം
 വർക്ക് ഷീറ്റ് നമ്പർ : 6

വൈറ്റ് ബോർഡ് ഷീറ്റ്

തുടർച്ച

സമയം പുരിപ്പിക്കാമോ?

	<p>----- മണി ----- മിനിട്ട്</p>
	<p>----- മണി ----- മിനിട്ട്</p>
	<p>----- മണി ----- മിനിട്ട്</p>



ജില്ലയുടെ പേര് : തിരുവനന്തപുരം
 ബി.ആർ.സി.യുടെ പേര് : നെയ്യാറ്റിൻകര

സ്റ്റാൽനമ്പർ : 4
 വിഷയം : ഗണിതം
 യൂണിറ്റ് : 2
 പാഠം : സമയചക്രം
 വർക്ക് ഷീറ്റ് നമ്പർ : 7

വൈറ്റ് ബോർഡ് ഷീറ്റ്

തുടർച്ച

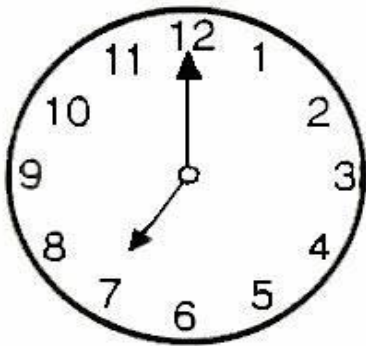
ക്ലോക്കിൽ സൂചി വരയ്ക്കാമോ am/pm ൽ രേഖപ്പെടുത്തുക

രാവിലെ ഉണരേ

സമയം

രാത്രി ഉറങ്ങേ

സമയം



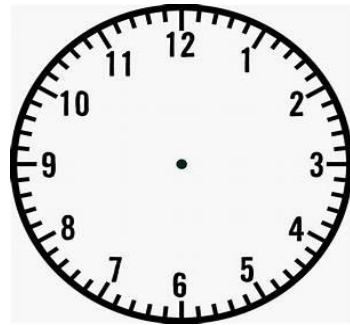

7



10



ഇറവിടെ സൂകുളിൽ
എത്തേ സമയം

വൈകുന്നേരം സൂകുൾ
പ്രവർത്തനം കഴിയുന്ന സമയം



ഉച്ചയ്ക്ക് ആഹാരം കഴി
ക്കുന്ന സമയം

ഇറവിടെ പ്രഭാത ഭക്ഷണം
കഴിക്കുന്ന സമയം





ജില്ലയുടെ പേര് : തിരുവനന്തപുരം
 വിദ്യാർത്ഥിയുടെ പേര് : നെയ്യാറ്റിൻകര

സ്റ്റാൻഡേർഡ് : 4
 വിഷയം : ഗണിതം
 യൂണിറ്റ് : 2
 പാഠം : സമയചക്രം
 വർക്ക് ഷീറ്റ് നമ്പർ : 8

വൈറ്റ് ബോർഡ് ഷീറ്റ്

തുടർച്ച

**ഒരു ദിവസത്തെ നിങ്ങളുടെ ദിനചര്യകൾ പട്ടികപ്പെടുത്താമോ.
 am/pm ഉപയോഗിച്ച് രേഖപ്പെടുത്താൻ ശ്രദ്ധിക്കുമല്ലോ.**

സമയം	പ്രവർത്തനം
07.00 am	ഉണർന്നു
07.30 am – 08.00 am	പ്രഭാത കൃത്യങ്ങൾ
08.00 am – 08.30 am	പ്രഭാത ഭക്ഷണം
8.30 am – 10.00 am	പുസ്തക വായന
10.00 – 11.00	കുളി
11.00 – 01.00	പഠനം
01.00- 02.00	ഉച്ചഭക്ഷണം
02.00 - 04.00	ടി.വി.കാണൽ
04.00- 04.30	ചായകുടിക്കുന്നു



ജില്ലയുടെ പേര് : തിരുവനന്തപുരം
 ബിരുദാനന്തര പേര് : നെയ്യാറ്റിൻകര

സ്റ്റാൽനമ്പർ : 4
 വിഷയം : ഗണിതം
 യൂണിറ്റ് : 2
 പാഠം : സമയചക്രം
 വർക്ക് ഷീറ്റ് നമ്പർ : 9

വൈറ്റ് ബോർഡ് ഷീറ്റ്

തുടർച്ച

കോവിഡ് 19 ന്റെ വ്യാപനത്തെ തുടർന്ന് നമ്മുടെ പഠനം വികട്സേഴ്സ് ചാനലിനെ ആശ്രയിച്ചാണല്ലോ. ഇന്ന് നടന്ന വികട്സേഴ്സ് ചാനൽ ക്ലാസിന്റെ സമയക്രമം പട്ടികപ്പെടുത്താമോ. am/pm ഉപയോഗിച്ച് രേഖപ്പെടുത്താൻ ശ്രദ്ധിക്കുമല്ലോ

ക്ലാസ്	സമയം	വിഷയം
+1	08.00 am	ഗണിതം
	08.30 am	ഫിസിക്സ്
	09.00 am	ബിസിനസ് സ്റ്റഡീസ്
	09.30 am	ഇക്കണോമിക്സ്
IX	10.00 am	ഇംഗ്ലീഷ്
	10.30 am	ഗണിതം
പ്രീ-പ്രൈമറി	11.00	കിളിക്കൊഞ്ചൽ
I	11.30	ഗണിതം
II	12.00 pm	ഇംഗ്ലീഷ്
III	01.00 pm	പരിസരപഠനം
IV	01.30	ഇംഗ്ലീഷ്
V	02.00	അവിസ്ഥാന ശാസ്ത്രം
VI	02.30	ഗണിതം
VII	03.00	അവിസ്ഥാന പാഠാവലി
VIII	03.30	ഗണിതം
	04.00	ഹിന്ദി
X	04.30	ഗാമ്യശാസ്ത്രം
	05.00	ഇംഗ്ലീഷ്



ജില്ലയുടെ പേര് : തിരുവനന്തപുരം
 ഡി.ആർ.സി.യുടെ പേര് : നെയ്യാറ്റിൻകര

സ്റ്റാൽഡേർഡ് : 4
 വിഷയം : ഗണിതം
 യൂണിറ്റ് : 2
 പാഠം : സമയചക്രം
 വർക്ക് ഷീറ്റ് നമ്പർ : 10

വൈറ്റ് ബോർഡ് ഷീറ്റ്

തുടർച്ച

താഴെ തന്നിട്ടുള്ള സമയത്തെ am/pm നൽകി എഴുതുക

നമ്പർ	സമയം	<u>am/pm</u>
1	2.00 ഉച്ചയ്ക്ക്	
2	9.30 രാത്രി	
3	5.15 വൈകുന്നേരം	
4	7.40 രാവിലെ	
5	1.30 രാവിലെ	
6	4.45 വൈകുന്നേരം	
7	8.50 വൈകുന്നേരം	
8	10.20 രാവിലെ	



ജില്ലയുടെ പേര് : തിരുവനന്തപുരം
ബി.ആർ.സി.യുടെ പേര് : നെയ്യാറ്റിൻകര

സ്റ്റാൽഡേർഡ് : 4
വിഷയം : ഗണിതം
യൂണിറ്റ് : 2
പാഠം : സമയചക്രം
വർക്ക് ഷീറ്റ് നമ്പർ : 11

വൈറ്റ് ബോർഡ് ഷീറ്റ്

തുടർച്ച

ക്ലോക്ക് വരയ്ക്കാം നിറം നല്കാം



ജില്ലയുടെ പേര് : തിരുവനന്തപുരം
 ബി.ആർ.സി.യുടെ പേര് : നെയ്യാറ്റിൻകര

സ്റ്റാൻഡേർഡ് : 4
 വിഷയം : ഗണിതം
 യൂണിറ്റ് : 2
 പാഠം : സമയചക്രം
 വർക്ക് ഷീറ്റ് നമ്പർ : 12

വൈറ്റ് ബോർഡ് ഷീറ്റ്

തുടർച്ച

ചുവടെ തന്നിരിക്കുന്ന 24 മണിക്കൂർ സമയത്തെ 12 മണിക്കൂർ സമയമായി മാറ്റി എഴുതുക

നമ്പർ	24 മണിക്കൂർ സമയം	12 മണിക്കൂർ സമയം
1	13.30	
2	15.15	
3	20.45	
4	16.10	
5	14.05	
6	22.20	
7	17.30	



ജില്ലയുടെ പേര് : തിരുവനന്തപുരം
 വികസന ശാഖയുടെ പേര് : നെയ്യാറ്റിൻകര

സ്റ്റാൽഡേർഡ് : 4
 വിഷയം : ഗണിതം
 യൂണിറ്റ് : 2
 പാഠം : സമയചക്രം
 വർക്ക് ഷീറ്റ് നമ്പർ : 13

വൈറ്റ് ബോർഡ് ഷീറ്റ്

തുടർച്ച

സമയ ദൈർഘ്യം ഉപരിച്ച് പറയുക

:

ശരിയായവ യോജിപ്പിക്കുക.

7.00 <u>am</u> മുതൽ 11 <u>am</u> വരെ	6 മണിക്കൂർ
8.00 <u>am</u> മുതൽ 10 <u>am</u> വരെ	3 മണിക്കൂർ
7.00 <u>am</u> മുതൽ 1 <u>pm</u> വരെ	4 മണിക്കൂർ
9.00 <u>am</u> മുതൽ 11 <u>am</u> വരെ	2 മണിക്കൂർ




ജില്ലയുടെ പേര് : തിരുവനന്തപുരം
ബി.ആർ.സി.യുടെ പേര് : നെയ്യാറ്റിൻകര

സ്റ്റാൻഡേർഡ് : 4
വിഷയം : ഗണിതം
യൂണിറ്റ് : 2
പാഠം : സമയചക്രം
വർക്ക് ഷീറ്റ് നമ്പർ : 14

വൈറ്റ് ബോർഡ് ഷീറ്റ്

തുടർച്ച

സമയം കെ ത്താം





ജില്ലയുടെ പേര് : തിരുവനന്തപുരം
 ബിരുദാനന്തര പേര് : നെയ്യാറ്റിൻകര

സ്റ്റാൽഡേർഡ് : 4
 വിഷയം : ഗണിതം
 യൂണിറ്റ് : 2
 പാഠം : സമയചക്രം
 വർക്ക് ഷീറ്റ് നമ്പർ : 15

വൈറ്റ് ബോർഡ് ഷീറ്റ്

തുടർച്ച

സമയ ദൈർഘ്യം ഉറപ്പിച്ച് പറയുക

പുരിപ്പിക്കുക

1. 7.00 am മുതൽ 12.00 മണിവരെയുള്ള സമയം 4

മണിക്കൂർ

2. 8.00 am മുതൽ 1.00 pm വരെയുള്ള സമയം

.....

3. 2.00 pm മുതൽ 4.00 pm വരെ യുള്ള സമയം

.....

4. 9.45 am മുതൽ 7.00 pm വരെയുള്ള സമയം

.....



ജില്ലയുടെ പേര് : തിരുവനന്തപുരം
 വിദ്യാർത്ഥിയുടെ പേര് : നെയ്യാറ്റിൻകര

സ്റ്റാൽഡേർഡ് : 4
 വിഷയം : ഗണിതം
 യൂണിറ്റ് : 2
 പാഠം : സമയചക്രം
 വർക്ക് ഷീറ്റ് നമ്പർ : 16

വൈറ്റ് ബോർഡ് ഷീറ്റ്

തുടർച്ച

എത്ര സമയം

പ്രവർത്തനം	വേറിവന്ന സമയം
അജിത പ്രഭാത ഭക്ഷണം കഴിക്കാനും, ഹോം വർക്ക് ചെയ്യാനും എടുത്ത സമയം	7 മണിമുതൽ 8 മണിവരെ
സ്കൂളിൽ പോകാൻ റെഡിയായ സമയം	8 മണിമുതൽ 8.30 വരെ

രജിത ആകെ എത്ര സമയമാണ് ഈ പ്രവർത്തനങ്ങൾക്കായി എടുത്തത്.



ജില്ലയുടെ പേര് : തിരുവനന്തപുരം
ബി.ആർ.സി.യുടെ പേര് : നെയ്യാറ്റിൻകര

സ്റ്റാൽഡേർഡ് : 4
വിഷയം : ഗണിതം
യൂണിറ്റ് : 2
പാഠം : സമയചക്രം
വർക്ക് ഷീറ്റ് നമ്പർ : 17

വൈറ്റ് ബോർഡ് ഷീറ്റ്

തുടർച്ച

എത്ര സമയം

ഒരു തുണിക്കടയിലെ പ്രവർത്തന സമയം രാവിലെ 8 മണി മുതൽ 12 മണി വരെയും, ഉച്ചയ്ക്ക് ശേഷം 3 മണി മുതൽ രാത്രി 9 മണി വരെയുമാണ്. എങ്കിൽ എത്ര മണിക്കൂറാണ് തുണിക്കട ഒരു ദിവസം തുറന്ന് പ്രവർത്തിക്കുന്നത്.



ജില്ലയുടെ പേര് : തിരുവനന്തപുരം
 ബി.ആർ.സി.യുടെ പേര് : നെയ്യാറ്റിൻകര

സ്റ്റാൽഡേർഡ് : 4
 വിഷയം : ഗണിതം
 യൂണിറ്റ് : 2
 പാഠം : സമയചക്രം
 വർക്ക് ഷീറ്റ് നമ്പർ : 18

വൈറ്റ് ബോർഡ് ഷീറ്റ്

തുടർച്ച

എത്ര സമയം

രജിതയുടെ സ്കൂളിൽ വാർഷികാഘോഷമാണ്. ഇവിടെ 10 മണിമുതൽ 11 മണിവരെ ഉദ്ഘാടനയോഗം. 11 മണിമുതൽ 1.30 വരെ കലാപരിപാടികൾ. 2.30 മുതൽ 3.30 വരെ സമാപന സമ്മേളനം. എങ്കിൽ-

ഉദ്ഘാടന യോഗത്തിന് എടുത്ത സമയം

കലാപരിപാടികൾക്കും സമാപന സമ്മേളനത്തിനുമായി എടുത്ത സമയം

വാർഷിക ആഘോഷത്തിനായി എടുത്ത സമയം



ജില്ലയുടെ പേര് : തിരുവനന്തപുരം
 ബി.ആർ.സി.യുടെ പേര് : നെയ്യാറ്റിൻകര

സ്റ്റാൽനമ്പർ : 4
 വിഷയം : ഗണിതം
 യൂണിറ്റ് : 2
 പാഠം : സമയചക്രം
 വർക്ക് ഷീറ്റ് നമ്പർ : 19

വൈറ്റ് ബോർഡ് ഷീറ്റ്

തുടർച്ച

തന്നിരിക്കുന്ന സമയത്തെ

am/pm ചേർത്ത് എഴുതുക

നമ്പർ	സമയം	<u>am/pm</u>
1	രാവിലെ 7 മണി	
2	ഉച്ചയ്ക്ക് 1.30 മണി	
3	വൈകുന്നേരം 4 മണി	
4	രാത്രി 8 മണി	



ജില്ലയുടെ പേര് : തിരുവനന്തപുരം
ബി.ആർ.സി.യുടെ പേര് : നെയ്യാറ്റിൻകര


സ്റ്റാൻഡേർഡ് : 4
വിഷയം : ഗണിതം
യൂണിറ്റ് : 2
പാഠം : സമയചക്രം
വർക്ക് ഷീറ്റ് നമ്പർ : 20

വൈറ്റ് ബോർഡ് ഷീറ്റ്


തുടർച്ച

ക്ലോക്കിൽ സമയം വരച്ച് ചേർക്കാമോ


12.00 മണി




2.15 മണി



7.30 മണി



4.20 മണി





ജില്ലയുടെ പേര് : തിരുവനന്തപുരം
ബി.ആർ.സി.യുടെ പേര് : നെയ്യാറ്റിൻകര

സ്റ്റാൽഡേർഡ് : 4
വിഷയം : ഗണിതം
യൂണിറ്റ് : 2
പാഠം : സമയചക്രം
വർക്ക് ഷീറ്റ് നമ്പർ : 21

വൈറ്റ് ബോർഡ് ഷീറ്റ്

തുടർച്ച

ചുവടെ തന്നിരിക്കുന്ന 24 മണിക്കൂർ സമയത്തെ 12 മണിക്കൂർ സമയമായി മാറ്റി എഴുതുക

നമ്പർ	24 മണിക്കൂർ സമയം	12 മണിക്കൂർ സമയം
1	13 മണി	
2	15.15 മണി	
3	20 മണി	
4	16.30 മണി	



ജില്ലയുടെ പേര് : തിരുവനന്തപുരം
 ബി.ആർ.സി.യുടെ പേര് : നെയ്യാറ്റിൻകര

സ്റ്റാൽഡേർഡ് : 4
 വിഷയം : ഗണിതം
 യൂണിറ്റ് : 2
 പാഠം : സമയചക്രം
 വർക്ക് ഷീറ്റ് നമ്പർ : 22

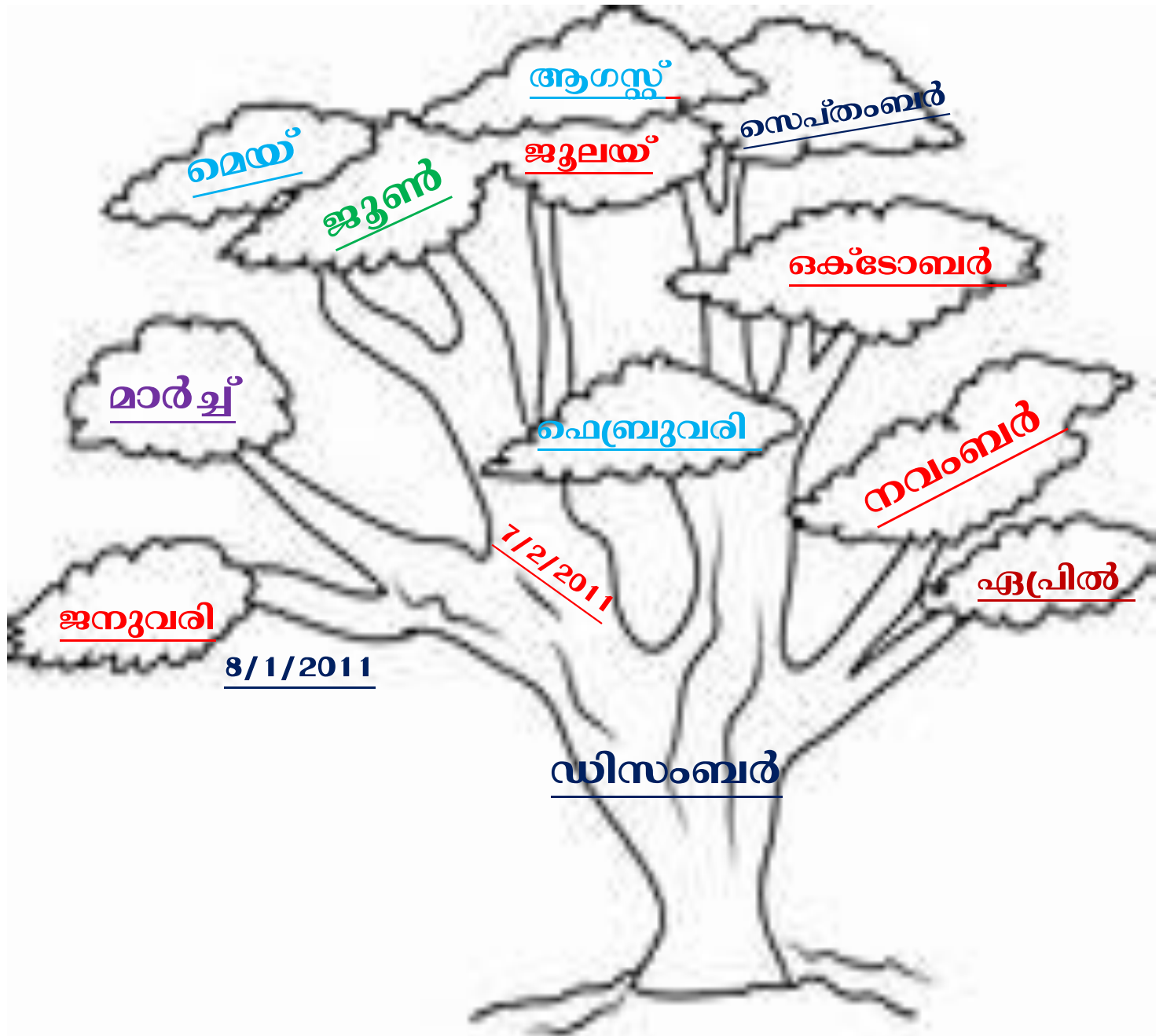
വൈറ്റ് ബോർഡ് ഷീറ്റ്

തുടർച്ച

പിറന്നാൾ മരം

കുട്ടുകാരുടെ പിറന്നാൾ ദിനം മരത്തിൽ ഒട്ടിക്കാമോ.

തീയതി, മാസം, വർഷം എന്ന ക്രമത്തിൽ ഒട്ടിത്തണം.





ജില്ലയുടെ പേര് : തിരുവനന്തപുരം
 ബി.ആർ.സി.യുടെ പേര് : നെയ്യാറ്റിൻകര

സ്റ്റാൽഡേർഡ് : 4
 വിഷയം : ഗണിതം
 യൂണിറ്റ് : 2
 പാഠം : സമയചക്രം
 വർക്ക് ഷീറ്റ് നമ്പർ : 23

വൈറ്റ് ബോർഡ് ഷീറ്റ്

തുടർച്ച

കലർ പരിശോധിച്ച് വിശേഷ ദിവസങ്ങൾ കൈത്തി ദിവസം/ മാസം/ വർഷം എന്ന ക്രമത്തിൽ എഴുതുക.

വിശേഷ ദിവസങ്ങൾ	ദിവസം	മാസം	വർഷം	ദിവസം/മാസം/വർഷം
പുതുവർഷദിനം	1	1	2021	
റിപ്പബ്ലിക് ദിനം	26	1	2021	
ഓഗസ്റ്റ് ദിനം				10/3/2021
മഹാനന്ദവമി	6	4	2021	
				12/4/2021
	15	8	2021	
				21/8/2021
മുഹൂർത്തം				
അധ്യാപക ദിനം				5/9/2021



ജില്ലയുടെ പേര് : തിരുവനന്തപുരം
ബി.ആർ.സി.യുടെ പേര് : നെയ്യാറ്റിൻകര

സ്റ്റാൽനമ്പർ : 4
വിഷയം : ഗണിതം
യൂണിറ്റ് : 2
പാഠം : സമയചക്രം
വർക്ക് ഷീറ്റ് നമ്പർ : 24

വൈറ്റ് ബോർഡ് ഷീറ്റ്

തുടർച്ച

സമയ രേഖ പൂർത്തിയാക്കാം

1880 ജൂൺ 27 ന് അമേരിക്കയിലെ വടക്കൻ അലബാമയിലും ഒരു ചെറു നഗരത്തിൽ ഹെലൻകെല്ലർ ജനിച്ചു. 19 മാസം വരെ ഹെലൻ നല്ല ആരോഗ്യമുള്ള കുട്ടിയായിരുന്നു. 1982 ഫെബ്രുവരി 4നാണ് അന്ധതയ്ക്കും ബധിരതയ്ക്കും കാരണമായ മസ്തിഷ്ക ജ്വരം ഹെലനെ ബാധിച്ചത്. 1887 മാർച്ച് 3 ന് ആനിസ ജളിവൻ അധ്യാപികയായി ഹെലന്റെ വീട്ടിലെത്തി. ടി സ്റ്റോറി ഞച് മൈ ലൈഫ് എന്നതായിരുന്നു ഹെലന്റെ പ്രധാന കൃതി. പ്രതിസന്ധികളെ അജീവിച്ച് ലോകത്തിന് തന്നെ മാതൃകയായ ഹെലൻ 1968 ജൂൺ 1 ന് അന്തരിച്ചു.

27/6/1880

ഹെലൻകെല്ലർ ജനിച്ചു

4/2/1882

മസ്തിഷ്ക ജ്വരം ബാധിച്ചത്.



ജില്ലയുടെ പേര് : തിരുവനന്തപുരം
ബി.ആർ.സി.യുടെ പേര് : നെയ്യാറ്റിൻകര

സ്റ്റാൽഡേർഡ് : 4
വിഷയം : ഗണിതം
യൂണിറ്റ് : 2
പാഠം : സമയചക്രം
വർക്ക് ഷീറ്റ് നമ്പർ : 25

വൈറ്റ് ബോർഡ് ഷീറ്റ്

തുടർച്ച

തുടക്കവും ഒടുക്കവും

പട്ടിക നിരീക്ഷിച്ച് മനസിലാക്കിയ ശേഷം ചുവടെ നൽകിയിരിക്കുന്ന ചോദ്യങ്ങൾക്ക് ഉത്തരം കൈ തരുന്നു.

വർഷം	ജനുവരി 1	ഡിസംബർ 31
2012	ഞായർ	തിങ്കൾ
2013	ചൊവ്വ	ചൊവ്വ
2014	ബുധൻ	ബുധൻ
2015	വ്യാഴം	വ്യാഴം
2016	വെള്ളി	ശനി
2017	ഞായർ	ഞായർ
2018	തിങ്കൾ	തിങ്കൾ
2019	ചൊവ്വ	ചൊവ്വ
2020	ബുധൻ	വ്യാഴം

അധിവാർഷമല്ലാത്ത വർഷങ്ങൾ തുടങ്ങുന്നതും അവസാനിക്കുന്നതും ഒരേ ആഴ്ച ആയിരിക്കും.

2021 ജനുവരി 1 വെള്ളിയാഴ്ചയാണെങ്കിൽ

- 2021 ഡിസംബർ 31 ഏത് ആഴ്ചയായിരിക്കും
- * 2022 ജനുവരി 1 ഏത് ആഴ്ചയായിരിക്കും.

2010 ജനുവരി 1 വെള്ളിയാഴ്ചയാണെങ്കിൽ

- 2010 ഡിസംബർ 31 ഏത് ആഴ്ചയായിരിക്കും
- * 2011 ജനുവരി 1 ഏത് ആഴ്ചയായിരിക്കും.

2016 ജനുവരി 1 വെള്ളിയാഴ്ചയാണെങ്കിൽ

- 2016 ഡിസംബർ 31 ഏത് ആഴ്ചയായിരിക്കും
- * 2017 ജനുവരി 1 ഏത് ആഴ്ചയായിരിക്കും.



ജില്ലയുടെ പേര് : തിരുവനന്തപുരം
ബി.ആർ.സി.യുടെ പേര് : നെയ്യാറ്റിൻകര

സ്റ്റാൽഡേർഡ് : 4
വിഷയം : ഗണിതം
യൂണിറ്റ് : 2
പാഠം : സമയചക്രം
വർക്ക് ഷീറ്റ് നമ്പർ : 28

വൈറ്റ് ബോർഡ് ഷീറ്റ്

തുടർച്ച

കുഞ്ഞുങ്ങളെ മീനൂ ഒരു ദിവസത്തെ ഡയറി എഴുതിയതു പോലെ നിങ്ങളുടെ ഒരു ദിവസത്തെ ഡയറി എഴുതാമോ



ജില്ലയുടെ പേര് : തിരുവനന്തപുരം
ബി.ആർ.സി.യുടെ പേര് : നെയ്യാറ്റിൻകര

സ്റ്റാൽഡേർഡ് : 4
വിഷയം : ഗണിതം
യൂണിറ്റ് : 2
പാഠം : സമയചക്രം
വർക്ക് ഷീറ്റ് നമ്പർ : 29

വൈറ്റ് ബോർഡ് ഷീറ്റ്

തുടർച്ച

ഗാന്ധിജിയെക്കുറിച്ച് ചെറിയ ഒരു വിവരണം എഴുതാമോ?



ജില്ലയുടെ പേര് : തിരുവനന്തപുരം
 ബി.ആർ.സി.യുടെ പേര് : നെയ്യാറ്റിൻകര

സ്റ്റാൽഡേർഡ് : 4
 വിഷയം : ഗണിതം
 യൂണിറ്റ് : 2
 പാഠം : സമയചക്രം
 വർക്ക് ഷീറ്റ് നമ്പർ : 30

വൈറ്റ് ബോർഡ് ഷീറ്റ്

തുടർച്ച

ചേരുപടി ചേർക്കുക

വർഷം	പ്രത്യേകത
1869	ഇന്ത്യ സ്വതന്ത്രമായി
1891	ക്വിറ്റ് ഇന്ത്യാ സമരം
1887	ചൗരി ചൗരാ സംഭവം
1922	ഗാന്ധിജിയുടെ ജന്മദിനം
1947	മെട്രിക്കുലേഷൻ പാസ്സായി
1944	അഭിഭാഷകൻ



ജില്ലയുടെ പേര് : തിരുവനന്തപുരം
 ബിരുദാനന്തര പേര് : നെയ്യാറ്റിൻകര

സ്റ്റാൽഡേർഡ് : 4
 വിഷയം : ഗണിതം
 യൂണിറ്റ് : 2
 പാഠം : സമയചക്രം
 വർക്ക് ഷീറ്റ് നമ്പർ : 31

വൈറ്റ് ബോർഡ് ഷീറ്റ്

അവസാനം

സമയ രേഖ പൂർത്തിയാക്കാം

വർഷങ്ങൾ ക്രമപ്പെടുത്തി സമയ രേഖ തയ്യാറാക്കണം


1869 - ഗാന്ധിജിയുടെ ജന്മദിനം

1888 - ഉന്നത പഠനത്തിനായി ഇംഗ്ലീഷ് ലേക്ക്

1893 - ദക്ഷിണാഫ്രിക്കയിൽ ജോലി സംബന്ധമായി എത്തിച്ചേർന്നു.

1891 - അഭിഭാഷകൻ

1869



ഗാന്ധിജിയുടെ ജന്മദിനം