

മിഥ്യയുടെ പേര്. എറണാകുളം
 ഡി.ആർ.സി.യുടെ പേര്. ആലുവ

| | |
|-----------------------|------------|
| സ്റ്റാൻഡേർഡ് : | 5 |
| വിഷയം : | ഗണിതം |
| യൂണിറ്റ് : | 1 |
| പാഠം : | സംഖ്യാലോകം |
| വർക്ക് ബുക്ക് നമ്പർ : | 1 |

✓ ആരംഭം/തുടർച്ച/അവസാനം

വൈറ്റ് ബോർഡ് ഷീറ്റ്

വലുതാർ.....ചെറുതാർ

വലിയ അക്കത്തെ വട്ടത്തിനകത്താക്കുക

56

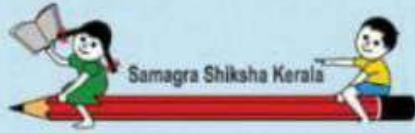
95

78

42

39

64



ജില്ലയുടെ പേര്. എറണാകുളം
 മി.ആർ.നിയുടെ പേര്. ആലുവ

| | | |
|---------------------|---|------------|
| സ്റ്റാൻഡേർഡ് | : | 5 |
| വിഷയം | : | ഗണിതം |
| യൂണിറ്റ് | : | 1 |
| പാഠം | : | സംഖ്യാലോകം |
| വർക്ക് ഷീറ്റ് നമ്പർ | : | 1 |

✓ ആരംഭം/തുടർച്ച/അവസാനം

വൈറ്റ് ബോർഡ് ഷീറ്റ്

അടുത്തത് ആര് ?


1. 16.....
2. 24.....
3. 44.....
4. 528.....
5. 95.....

ഏറ്റവും വലിയ ഒരക്ക സംഖ്യയിൽ വട്ടം വരക്കുക

8, 9, 7

ഏറ്റവും വലിയ മൂന്നക്ക സംഖ്യയിൽ വട്ടം വരക്കുക

999, 889, 569



മി.പ്രൊഫ. ഡോ. എറണാകുളം
 മി.പ്രൊഫ. ഡോ. ആലുവ

സ്റ്റാൻഡേർഡ് : 5
 വിഷയം : ഗണിതം
 യൂണിറ്റ് : 1
 പാഠം : സംഖ്യാലോകം
 വർക്ക് ഷീറ്റ് നമ്പർ : 2(a)

ആരംഭം/മുടക്കൽ/അവസാനം

വൈറ്റ് ബോർഡ് ഷീറ്റ്

1

പാറ്റേൺ പൂർത്തിയാക്കാം

a. 9 , 99, 999, -----, -----

b. 10, 100, 1000 , -----, -----

2

അടുത്തത് ആര്?


9 — 10

99 — 100

999 — -----

9999 — -----

----- — -----



മിസ്റ്റർ/മിസ്സസ്. എറണാകുളം
മി.ജെ.ജി.എസ്.എസ്. ആലുവ


സ്റ്റാൻഡേർഡ് : 5
വിഷയം : ഗണിതം
യൂണിറ്റ് : 1
പാഠം : സംഖ്യാലോകം
വർക്ക് ഷീറ്റ് നമ്പർ : 2(b)

ആരംഭം/മുടക്കൽ/അവസാനം

വൈറ്റ് ബോർഡ് ഷീറ്റ്

3.

വിടുപോയത് ആര് ?




4.

വലുതാര് ($>$, $<$)

a. 3475 ----- 63750

b. 10000 ----- 8435



മുഖ്യമന്ത്രിയുടെ ഏറ്റെടുത്ത
 ഫണ്ട്. സമഗ്ര വിദ്യാഭ്യാസ പദ്ധതി

സ്റ്റാൻഡേർഡ് : 5
 വിഷയം : ഗണിതം
 യൂണിറ്റ് : 1
 ഫോറം : സംഖ്യയുടെ ക്രമം
 വർക്ക് ബുക്ക് നമ്പർ : 202

ആരംഭം/മുടക്കൽ/അവസാനം

വൈറ്റ് ബോർഡ് ഷീറ്റ്

1

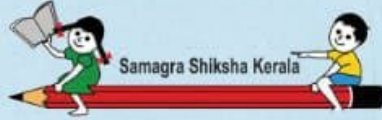
താഴെ കൊടുത്തിരിക്കുന്നതിൽ വലിയ സംഖ്യ ഏതെന്നു കണ്ടെത്തി നിറം കൊടുക്കുക

- 321
- 241
- 134

2

താഴെ കൊടുത്തിരിക്കുന്നതിൽ ചെറിയ സംഖ്യ ഏതെന്നു കണ്ടെത്തി നിറം കൊടുക്കുക

- 43
- 29
- 122



മിഥ്യയുടെ പേര്. എറണാകുളം
 വി.ആർ.നിയുടെ പേര്. ആലുവ

സ്റ്റാൻഡേർഡ് : 5
 വിഷയം : ഗണിതം
 യൂണിറ്റ് : 1
 പാഠം : സംഖ്യലോകം
 വർക്ക് ഷീറ്റ് നമ്പർ : തുടർച്ച

ആരംഭം/തുടർച്ച/അവസാനം

വൈറ്റ് ബോർഡ് ഷീറ്റ്

1 ഒന്നുകളുടെ സ്ഥാനത്തെ സംഖ്യ വൃത്തത്തിനുള്ളിൽ ആക്കുക


a. 5 7 4 5

b. 4 4 7 6

2 നൂറുകളുടെ സ്ഥാനത്തെ സംഖ്യ വൃത്തത്തിനുള്ളിൽ ആക്കുക

a. 3 7 6 2

b. 2 8 6 4



മിശ്രിതമായ പേര്. എറണാകുളം
വി.ആർ.നിയോഗ പേര്. ആലുവ

| | |
|-----------------------|---------------|
| സ്റ്റാൻഡേർഡ് : | 5 |
| വിഷയം : | ഗണിതം |
| യൂണിറ്റ് : | 1 |
| പാഠം : | സംഖ്യപ്രാലോകം |
| വർക്ക് ഷീറ്റ് നമ്പർ : | 4A |

ആരംഭം/തുടർച്ച/അവസാനം


വൈറ്റ് ബോർഡ് ഷീറ്റ്

വിട്ടുപോയത് പൂരിപ്പിക്കുക



12865





മുഖ്യമന്ത്രിയുടെ പേര്. എറണാകുളം
മുഖ്യമന്ത്രിയുടെ പേര്. ആലുവ

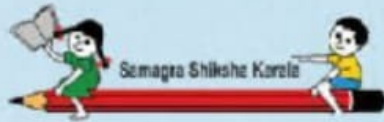
സ്റ്റാൻഡേർഡ് : 5
വിഷയം : ഗണിതം
യൂണിറ്റ് : 1
പാഠം : സംഖ്യാലോകം
വർക്ക് ഷീറ്റ് നമ്പർ : 4 B

ആരംഭം/തുടർച്ച/അവസാനം

വൈറ്റ് ബോർഡ് ഷീറ്റ്

ഒരേ പോലെയുള്ളവയെ കണ്ടെത്തി യോജിപ്പിക്കുക





മലയാളം പേര്: എറണാകുളം
ഇംഗ്ലീഷ് പേര്: ആലുവ

| | |
|---------------------|---------------|
| സ്റ്റാൻഡേർഡ് | : 5 |
| വിഷയം | : ഗണിതം |
| യൂണിറ്റ് | : 1 |
| ഘട്ടം | : സംഖ്യാ ലോകം |
| വർക്ക് ഷീറ്റ് നമ്പർ | : 5 |

രൂപം

വൈറ്റ് ബോർഡ് ഷീറ്റ്

3 പദസൂര്യൻ നിർമ്മിക്കുക

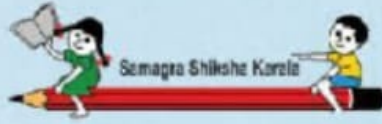
- 4 ലക്ഷം
- 2 പതിനായിരം
- 6 ആയിരം
- 5 നൂറ്
- 3 പത്ത്
- 2 ഒന്ന്

..... പത്ത് ഒന്ന്

426532

- ഒന്ന്
-പത്ത്
-
-
-പതിനായിരം
- ലക്ഷം

..... ലക്ഷംഒന്ന്



മലയാളം പേര്: എറണാകുളം
 മലയാളം പേര്: ആലുവ


സ്റ്റാൻഡേർഡ് : 5
 വിഷയം : ഗണിതം
 യൂണിറ്റ് : 1
 പാഠം : സംഖ്യാ ലോകം
 വർക്ക് ഷീറ്റ് നമ്പർ : 5

കേരളം

വൈറ്റ് ബോർഡ് ഷീറ്റ്

4. പട്ടിക പൂർത്തീകരിക്കുക

| ഒറ്റ | പത്ത് | നൂറ് | ആയിരം | പതിനായിരം | ലക്ഷം | സംഖ്യ |
|-------|-------|-------|-------|-----------|-------|--------|
| 4 | 7 | 3 | 5 | 2 | 1 | |
| | | | | | | 259326 |
| 5 | 8 | 9 | 2 | | | 589231 |
| | | | 3 | 2 | 1 | 746321 |



മിത്രമുഖം ടീം. ഏറണാകുളം
 ഡി.ആർ.എസ്. ടീം. ആലുവ

| | | |
|-------------------|---|-------------|
| സ്റ്റാൻഡേർഡ് | : | 5 |
| വിഷയം | : | ഗണിതം |
| തലമുറ | : | 1 |
| ഫീൽഡ് | : | സംഖ്യാ ലോകം |
| വർഷ് ഷീറ്റ് നമ്പർ | : | 6 |

ആരംഭം/ഉടമസ്ഥത/അവസാനം

വൈറ്റ് ബോർഡ് ഷീറ്റ്



2000000



8000



1200000




90000



350000

വാഹനങ്ങളുടെ ചിത്രവും അവയുടെ വിലയും തന്നിരിക്കുന്നു. ഇവ നോക്കി താഴെ തന്നിരിക്കുന്ന ചോദ്യങ്ങളുടെ ഉത്തരം കണ്ടെത്തുക.




മിത്രമുഖം ട്രസ്റ്റ്. എറണാകുളം
മി.ജി.എസ്.എസ്. ട്രസ്റ്റ്. ആലുവ

| | | |
|---------------------|---|-------------|
| സ്റ്റാൻഡേർഡ് | : | 5 |
| വിഷയം | : | ഗണിതം |
| തൂണൂറ് | : | 1 |
| പദം | : | സംഖ്യാ ലോകം |
| വർക്ക് ബുക്ക് നമ്പർ | : | 6 |

ആരംഭം/ഉത്തരം/അന്ത്യം


വൈറ്റ് ബോർഡ് ഷീറ്റ്

1) ഏറ്റവും വില കൂടിയ വാഹനം ഏത്? വില എത്ര?



2) ഏറ്റവും വില കുറഞ്ഞ വാഹനം ഏത്? വില എത്ര?





മിജലാൾ ട്രസ്റ്റ് എറണാകുളം
മി.ജെ.എസ്.എസ്. ട്രസ്റ്റ് ആലുവ

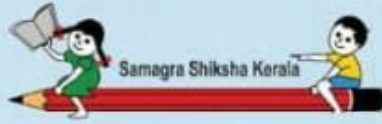
| | |
|----------------|---------------|
| സ്റ്റാഫ് നമ്പർ | : 5 |
| വിഷയം | : ഗണിതം |
| തലമുറ | : 1 |
| പിറകെ | : സംഗ്രഹ ലോകം |
| വർഷം | : 6 |

ആരംഭം/ഉപേക്ഷ/അന്ത്യം

വൈറ്റ് ബോർഡ് ഷീറ്റ്

3) ഈ വിലകളെ ആരോഹണ ക്രമത്തിൽ (ചെറുതിൽ നിന്ന് വലുതിലേക്ക്) എഴുതുക





മിഗ്രേഷൻ പേര്. എറണാകുളം
 വി.ആർ.നിഗ്രേഷൻ പേര്. ആലുവ

| | |
|---------------------|--------------|
| സ്റ്റാൻഡേർഡ് | : 5 |
| വിഷയം | : ഗണിതം |
| യൂണിറ്റ് | : 1 |
| പാഠം | : സംഖ്യാലോകം |
| വർക്ക് ഷീറ്റ് നമ്പർ | : 7 |

ആരംഭം/തുടർച്ച/അവസാനം

വൈറ്റ് ബോർഡ് ഷീറ്റ്

1. ഇരുവഴി സംഖ്യകൾക്ക് നിറം നൽകുക.

63436 58240

60000

89798 97479



തീയതിയുടെ പേര്. എറണാകുളം
വി.ആർ.നിയുടെ പേര്. ആലുവ

| | |
|-------------------|--------------|
| സ്റ്റാൻഡേർഡ് | : 5 |
| വിഷയം | : ഗണിതം |
| യൂണിറ്റ് | : 1 |
| ഛിറം | : സംഖ്യാലോകം |
| വർഷ് ഷീറ്റ് നമ്പർ | : 7 |

ആരംഭം/മധ്യം/അവസാനം

വൈറ്റ് ബോർഡ് ഷീറ്റ്


2.കൂട്ടത്തിൽ പെടാത്തതു കണ്ടെത്തുക.

a. 65456 , 98689 , 2343, 32423

b.45254 , 24573, 76890, 90876

c.65356 , 34843 , 96785, 24942

d. 74351, 65256, 90764, 25389




ബി.ഇ.എസ്.പി. ഏറണാകുളം
 ഇ.ഇ.എസ്.പി. ആലുവ


സ്റ്റാൻഡേർഡ് : 5
 വിഷയം : ഗണിതം
 യൂണിറ്റ് : 1
 പാഠം : സംഖ്യാലോകം
 വർക്ക് ഷീറ്റ് നമ്പർ : 8 (c)

ആരംഭം/മുടക്കൽ/അവധാനം

വൈറ്റ് ബോർഡ് ഷീറ്റ്

1. 4,0,7,8,5,6 ഈ സംഖ്യകളെ ആരോഹണ ക്രമത്തിലെഴുതുക





ബി.ഇ.എസ്.പി. ഏറണാകുളം
ബി.ഇ.എസ്.പി. ആലുവ

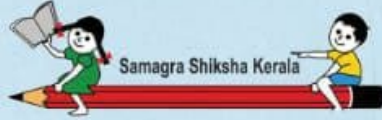
സ്റ്റാൻഡേർഡ് : 5
വിഷയം : ഗണിതം
യൂണിറ്റ് : 1
പാഠം : സംഖ്യലോകം
വർക്ക് ഷീറ്റ് നമ്പർ : 8 (d)

ആരംഭം/മുടക്കൽ/അവസാനം

വൈറ്റ് ബോർഡ് ഷീറ്റ്

4 **4,0,7,8,5,6** ഈ സംഖ്യകളെ അവരോഹണ ക്രമത്തിലെഴുതുക





മിഥ്യയുടെ പേര്. എറണാകുളം
ബി.ആർ.നിയുടെ പേര്. ആലുവ

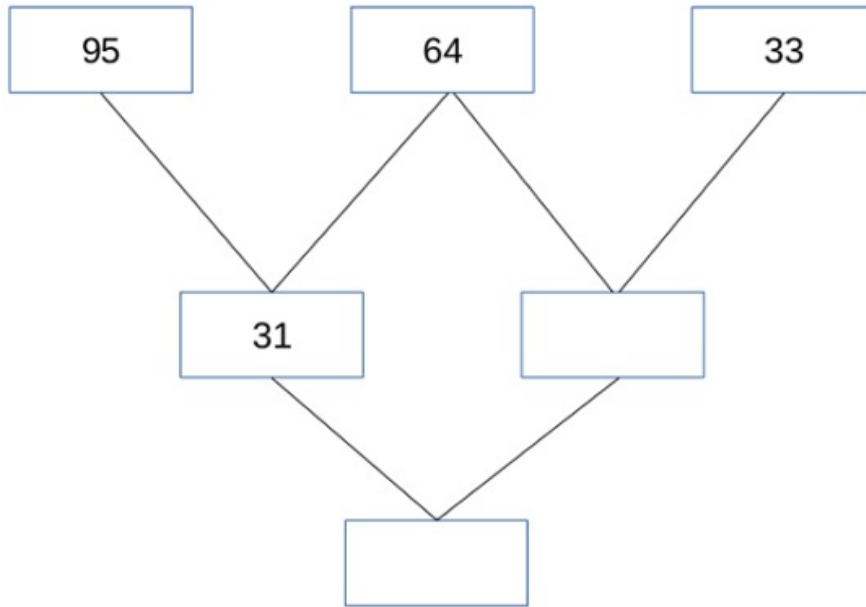
സ്റ്റാൻഡേർഡ് : 5
വിഷയം : ഗണിതം
യൂണിറ്റ് : 1
പാഠം : സംഖ്യലോകം
വർക്ക് ഷീറ്റ് നമ്പർ : 9

ആരംഭം/തുടർച്ച/അവസാനം

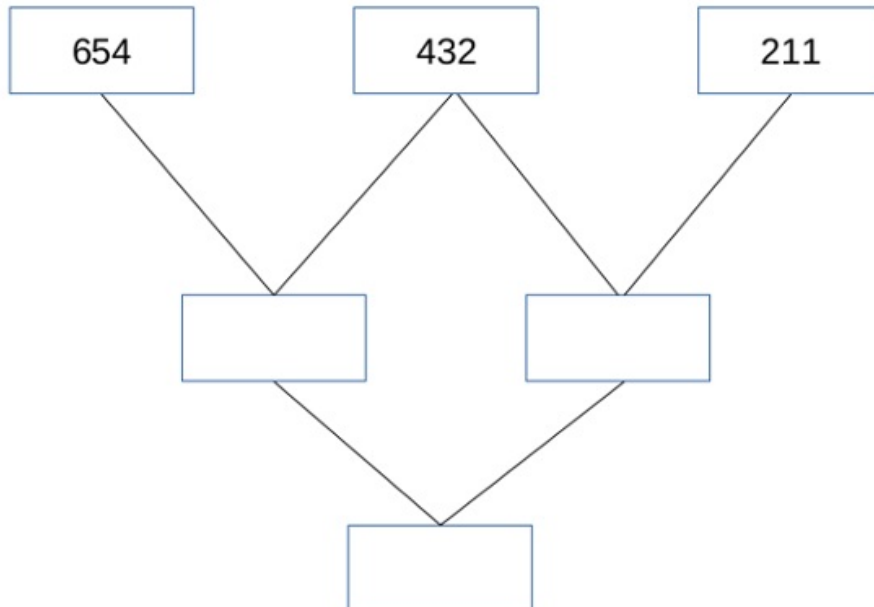
വൈറ്റ് ബോർഡ് ഷീറ്റ്

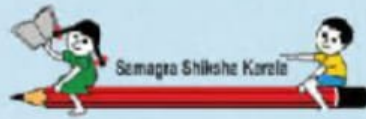
സംഖ്യമാല നിർമ്മിക്കാം

1.



2





മെല്ലയുടെ പേര് എറണാകുളം
മി.ജെ.ടി.നിത്യം പേര് ആലുവ


സ്റ്റാൻഡേർഡ് : 5
വിഷയം : ഗണിതം
യൂണിറ്റ് : 1
പാഠം : സംഖ്യാ ലോകം
വർക്ക് ഷീറ്റ് നമ്പർ : 10- A

ആരംഭം

വൈറ്റ് ബോർഡ് ഷീറ്റ്

സുരേഷ് കടയിൽ നിന്നും പേന, റബർ,പെൻസിൽ എന്നിവ വാങ്ങി. പേനയ്ക്ക് 5 രൂപയും പുസ്തകത്തിന് 8 രൂപയും റബറിന് 1രൂപയും പെൻസിലിന് 3 രൂപയും ആണ്. താഴെ തന്നിരിക്കുന്ന സാധനങ്ങളുടെ വിലകൾ കണ്ടെത്തി കോളത്തിൽ രേഖപ്പെടുത്തുക.

| | |
|--|-----------|
| | രൂപ |
| | രൂപ |
| | രൂപ |
| | രൂപ |



മുഖ്യമന്ത്രിയുടെ സെക്രട്ടേറിയറ്റ്
എറണാകുളം
മ.ജെ.ബി.യുടെ സെക്രട്ടേറിയറ്റ്, ആലുവ

സ്റ്റാഫ് : 5
വിഷയം : ഗണിതം
യൂണിറ്റ് : 1
പാഠം : സംഖ്യാ ലോകം
വർഷം : 11 (a)

മുദ്രണം/രൂപരേഖ/അവധാനം

വൈറ്റ് ബോർഡ് ഷീറ്റ്

1. മാവിൽ നൽകിയിരിക്കുന്ന ഉത്തരങ്ങളിൽ ശരിയായവ എടുത്തെഴുതി ഉചിതമായ നിറം മാങ്ങയ്ക്ക് നൽകുക



$$3 \times 4 =$$

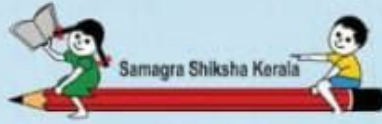
$$2 \times 5 =$$

$$3 \times 2 =$$

$$6 \times 3 =$$

$$5 \times 4 =$$

$$3 \times 3 =$$



തിലച്ചുടേ പേര്. എറണാകുളം
വി.ആർ.നിയുടേ പേര്. ആലുവ

വൈറ്റ് ബോർഡ് ഷീറ്റ്

സ്റ്റാൻഡേർഡ് : 5
വിഷയം : ഗണിതം
യൂണിറ്റ് : 1
പാഠം : സംഖ്യാലോകം
വർക്ക് ഷീറ്റ് നമ്പർ : 12

ആരംഭം/മുടർച്ച/അവസാനം

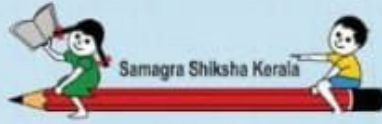
1. ഉത്തരം കണ്ടെത്തുക?

a. $4 \times 2 = \dots\dots\dots$

b. $5 \times 2 = \dots\dots\dots$

c. $3 \times 6 = \dots\dots\dots$

d. $8 \times 9 = \dots\dots\dots$



മിഗ്ലയുടെ പേര്. എറണാകുളം
വി.ആർ.നിയുടെ പേര്. ആലുവ

സ്റ്റാൻഡേർഡ് : 5
വിഷയം : ഗണിതം
യൂണിറ്റ് : 1
പാഠം : സംഖ്യാലോകം
വർക്ക് ഷീറ്റ് നമ്പർ : 12

ആരംഭം/അവസാനം

വൈറ്റ് ബോർഡ് ഷീറ്റ്

2.ചേരുമ്പടി ചേർക്കുക.

a. 8×2

a. 9

b. 9×1

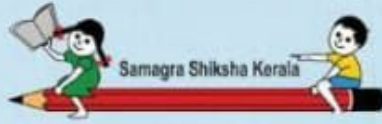
b.16

c. 6×3

c. 35

d. 5×7

d.18



തിലച്ചുടേ പേര്. എറണാകുളം
വി.ആർ.തിലച്ചുടേ പേര്. ആലുവ

സ്റ്റാൻഡേർഡ് : 5
വിഷയം : ഗണിതം
യൂണിറ്റ് : 1
പാഠം : സംഖ്യാലോകം
വർക്ക് ഷീറ്റ് നമ്പർ : 12

ആരംഭം/മുടയ്ക്കൽ/അവസാനം

വൈറ്റ് ബോർഡ് ഷീറ്റ്

3. ശരിയായ ഉത്തരങ്ങൾ എടുത്ത് എഴുതുക.

$$10 \times 2 = \dots\dots\dots$$


$$7 \times 9 = \dots\dots\dots$$

$$6 \times 4 = \dots\dots\dots$$

a. 63

b. 24

c. 20



മിറ്റയുടെ ടീം എറണാകുളം
മി.ആർ.മിറ്റയുടെ ടീം ആലുവ

സ്റ്റാൻഡേർഡ് : 5
വിഷയം : ഗണിതം
യൂണിറ്റ് : 1
പാഠം : സംഖ്യാലോകം
വർക്ക് ഷീറ്റ് നമ്പർ : 13

അംഗീകൃതം / സാർവ്വദേശീയം / അംഗീകൃതം
അവസാനം

വൈറ്റ് ബോർഡ് ഷീറ്റ്

1A.

ഒരു കിലോഗ്രാം ആപ്പിളിന്റെ വില 20 രൂപ. 3 കിലോഗ്രാം ആപ്പിളിന്റെ വില എത്ര?

1kg 1kg ----- kg


20 രൂപ 20 രൂപ ----- രൂപ

$20 \times 2 = \text{-----}$

1 kg 1 kg 1 kg ----- kg

20 രൂപ 20 രൂപ 20 രൂപ ----- രൂപ

$20 \times 3 = \text{-----}$



മിറ്റയുടെ ട്രഷർ എറണാകുളം
മി.ആർ.മിറ്റയുടെ ട്രഷർ ആലുവ

| | | |
|---------------------|---|------------|
| സ്റ്റാൻഡേർഡ് | : | 5 |
| വിഷയം | : | ഗണിതം |
| യൂണിറ്റ് | : | 1 |
| പാഠം | : | സംഖ്യാലോകം |
| വർക്ക് ഷീറ്റ് നമ്പർ | : | 13 |

അംഗീകൃതം / മാർഗ്ഗരേഖ / അനുബന്ധം
അവസാനം

വൈറ്റ് ബോർഡ് ഷീറ്റ്

1B. ഒരു പേനയുടെ വില 5 രൂപ എങ്കിൽ അഞ്ചു പേനയുടെ വില എത്ര?

5 രൂപ 5 രൂപ 5 രൂപ 5 രൂപ 5 രൂപ ----- രൂപ

5 എണ്ണം

$5 \times 5 = \text{----- രൂപ}$



മിറ്റായുടെ ടീം എറണാകുളം
മി.ആർ.മിറ്റായുടെ ടീം ആലുവ

സ്റ്റാൻഡേർഡ് : 5
വീക്ഷണം : ഗണിതം
യൂണിറ്റ് : 1
പാഠം : സംഖ്യാലോകം
വർഷ് ഷീറ്റ് നമ്പർ : 13

അദ്ധ്യക്ഷൻ/അധ്യാപകൻ
അവസാനം

വൈറ്റ് ബോർഡ് ഷീറ്റ്

10

അപ്പൂവിന്റെ കൈയിൽ 10 മിഠായികൾ ഉണ്ട്. അതിൽ നിന്നും 5 മിഠായികൾ മനുവിന് കൊടുത്തു. അപ്പൂവിന്റെ കൈയിൽ എത്ര മിഠായികൾ ബാക്കി ഉണ്ട്?

10 മിഠായി

5 മിഠായി

----- മിഠായി



-



=



10

-

5

=
