

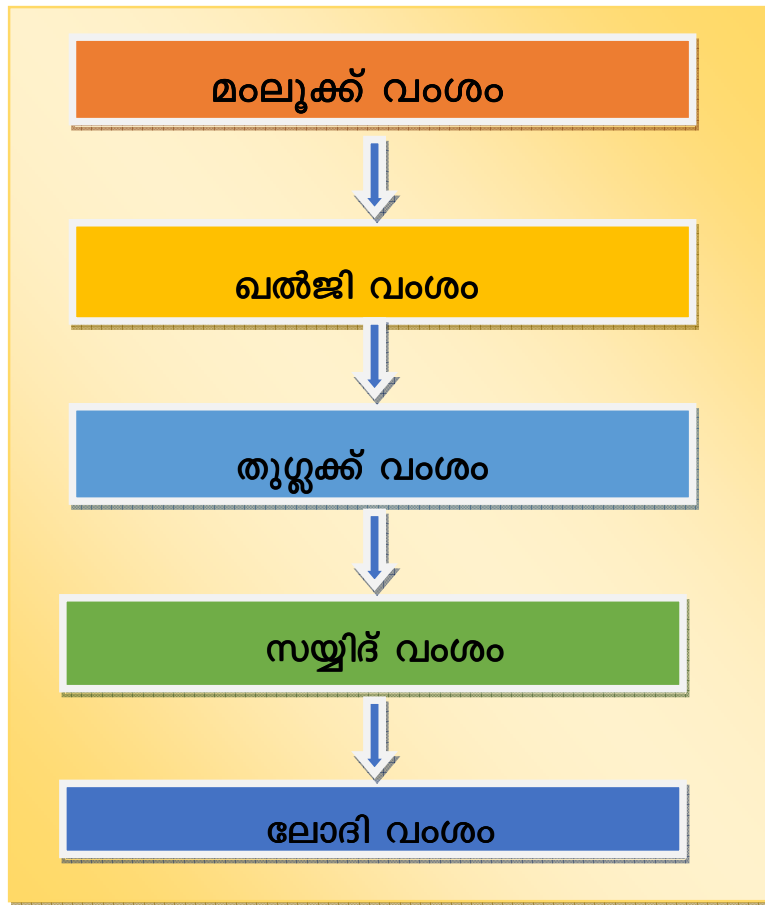
ജില്ലയുടെ പേര്. **തൃശ്ശൂർ**  
 ബി.ആർ.സി യുടെ പേര്. **ചേർപ്പ്**

സ്റ്റാൻഡേർഡ് : 6  
 വിഷയം : സാമൂഹ്യശാസ്ത്രം  
 യൂണിറ്റ് : 1  
 പാഠം : മധ്യകാലഇന്ത്യ അധികാരകേന്ദ്രങ്ങൾ  
 വർക്ക്ഷീറ്റ് നമ്പർ : 01

# വൈറ്റ് ബോർഡ് ഷീറ്റ്

ആരംഭം 01

ചുവടെ ചേർത്തിരിക്കുന്ന ഫ്ലോചാർട്ടിന്റെ സഹായത്തോടെ ആദ്യത്തെ വംശം ഏതാണെന്ന് കണ്ടുപിടിച്ച് (✓) മാർക്ക് നൽകുക



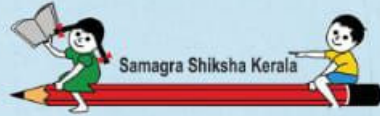
ഖൽജി വംശം

ലോദി വംശം

സയ്യിദ് വംശം

മംലൂക്ക് വംശം

തുഗ്ലക്ക് വംശം



ജില്ലയുടെ പേര്. **തൃശ്ശൂർ**  
 ബി.ആർ.സി യുടെ പേര്. **ചേർപ്പ്**

സ്റ്റാൻഡേർഡ് : 6  
 വിഷയം : സാമൂഹ്യശാസ്ത്രം  
 യൂണിറ്റ് : 1  
 പാഠം : മധ്യകാലഇന്ത്യ  
 അധികാരകേന്ദ്രങ്ങൾ  
 വർക്ക്ഷീറ്റ് നമ്പർ : 02

# വൈറ്റ് ബോർഡ് ഷീറ്റ്

തുടർച്ച 02


## കുത്തുകൾ യോജിപ്പിച്ച് ഉത്തരം കണ്ടെത്തി പറയൂ

- ഡൽഹിക്ക് ആവശ്യമായ ജലം ഉറപ്പുവരുത്തുകയും ജലഗതാഗതത്തെ സഹായിക്കുകയും ചെയ്ത നദി ഏത് ?

യമുനാനദി

- സിന്ധു- ഗംഗാ സമതലത്തിൽ സ്ഥിതി ചെയ്യുന്ന സ്ഥലം ഏതാണ്?

ഡൽഹി



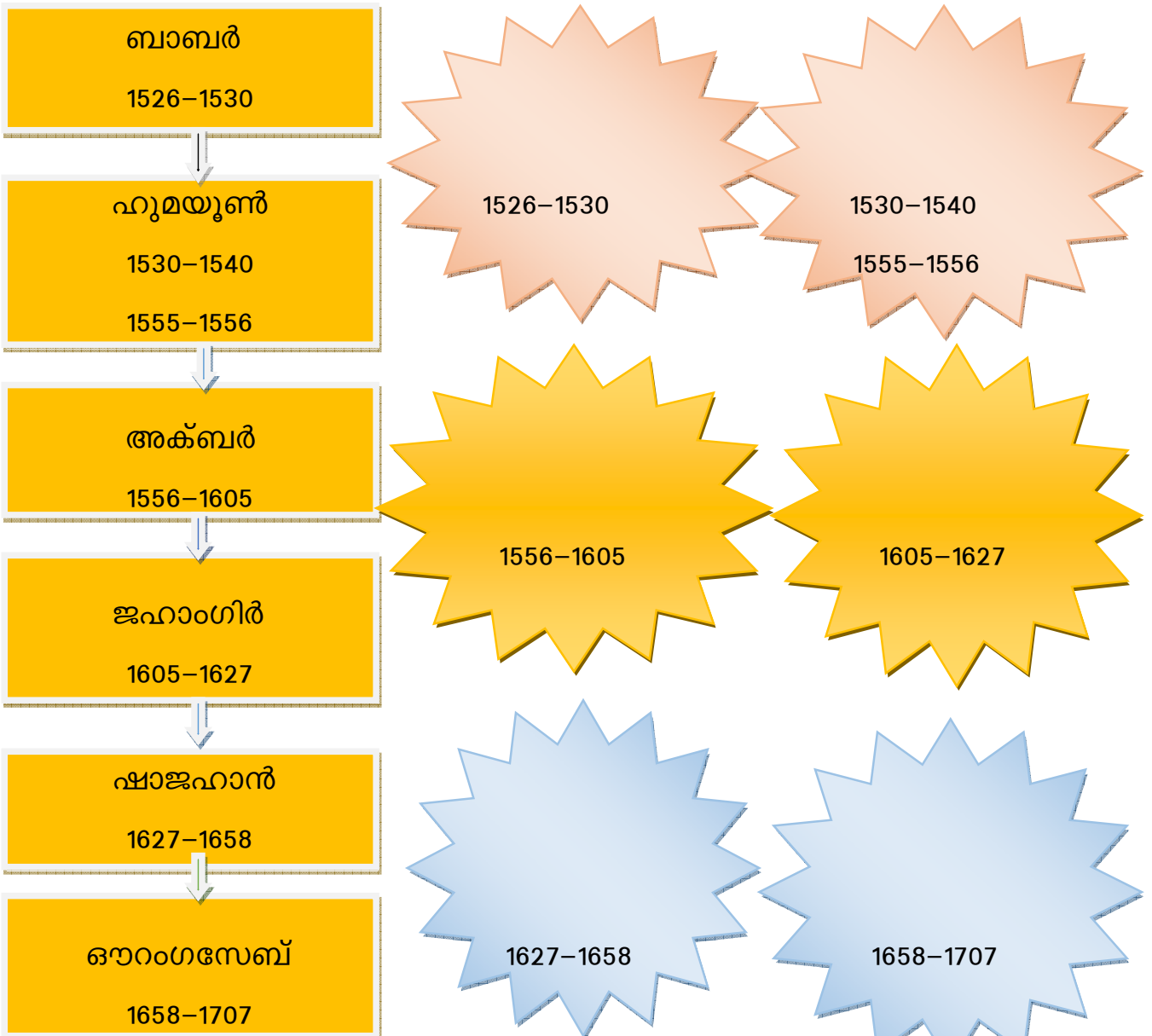
ജില്ലയുടെ പേര്. **തൃശ്ശൂർ**  
 ബി.ആർ.സി യുടെ പേര് . **ചേർപ്പ്**

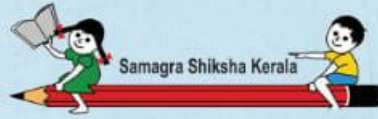
# വൈറ്റ് ബോർഡ് ഷീറ്റ്

സ്റ്റാൻഡേർഡ് : 6  
 വിഷയം : സാമൂഹ്യശാസ്ത്രം  
 യൂണിറ്റ് : 1  
 പാഠം : മധ്യകാലഇന്ത്യ  
 അധികാരകേന്ദ്രങ്ങൾ  
 വർക്ക്ഷീറ്റ് നമ്പർ : 03

തുടർച്ച 03

തന്നിരിക്കുന്ന ഫ്ലോ ചാർട്ടിന്റെ സഹായത്തോടെ താഴെ കൊടുത്തിരിക്കുന്ന വീടുകളിൽ ഭരണാധികാരികളുടെ പേര് എഴുതുക





ജില്ലയുടെ പേര്. **തൃശ്ശൂർ**  
 ബി.ആർ.സി യുടെ പേര് . **ചേർപ്പ്**

സ്റ്റാൻഡേർഡ് : 6  
 വിഷയം : സാമൂഹ്യശാസ്ത്രം  
 യൂണിറ്റ് : 1  
 പാഠം : മധ്യകാലഇന്ത്യ  
 അധികാരകേന്ദ്രങ്ങൾ  
 വർക്ക്ഷീറ്റ് നമ്പർ : 04

# വൈറ്റ് ബോർഡ് ഷീറ്റ്

തുടർച്ച 04

## പദസൂര്യൻ പൂർത്തിയാക്കൂ.....

മധ്യകാല ഇന്ത്യയിൽ ദക്ഷിണേന്ത്യയിൽ നിലനിന്നിരുന്ന അധികാര കേന്ദ്രങ്ങളാണ് ചുവടെ നൽകിയിരിക്കുന്നത്. അവ എഴുതി പദസൂര്യൻ പൂർത്തിയാക്കുമല്ലോ

