


മുഖ്യമന്ത്രിയുടെ ഓഫീസ്, കോഴിക്കോട്
വി.ആർ.എ.എസ്. ഓഫീസ്, പന്തലായിനി

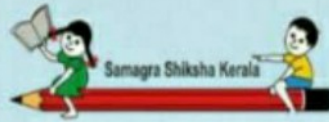
സ്റ്റാൻഡേർഡ് : VII
വിഷയം : ഗണിതം
യൂണിറ്റ് : 2
ഘട്ടം : സമാന്തരവരകൾ
വർക്ക് ബുക്ക് നമ്പർ : 1

വൈറ്റ് ബോർഡ് വർക്ക് ബുക്ക്

ആരംഭം

സമാന്തരവരകൾക്കിടയിലെ അകലം സ്കെയിൽ ഉപയോഗിച്ച് അളന്നെഴുതുക.





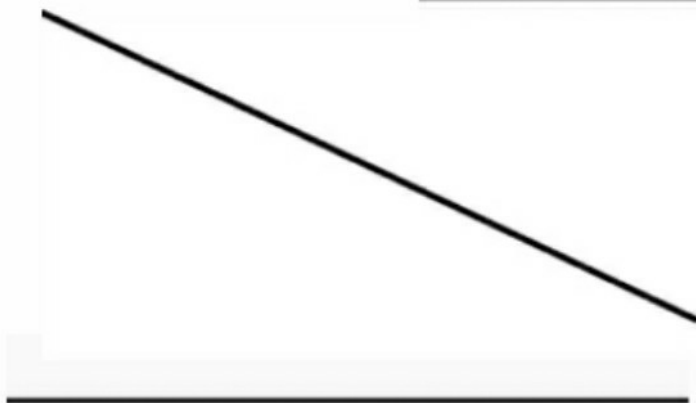

മല്ലയാട ഫണ്ട്, കോഴിക്കോട്
വി.ആർ.എ.എസ്. ഫണ്ട്, പന്തലായിനി


സ്റ്റാൻഡേർഡ് : VII
വിഷയം : ഗണിതം
യൂണിറ്റ് : 2
ഘടം : സമാന്തരവരകൾ
വർക്ക് ഷീറ്റ് നമ്പർ : 2

വൈറ്റ് ബോർഡ് വർക്ക് ഷീറ്റ്

തുടർച്ച

തന്നിരിക്കുന്ന വരകളിൽ സമാന്തരമായവ കണ്ടെത്തുക.





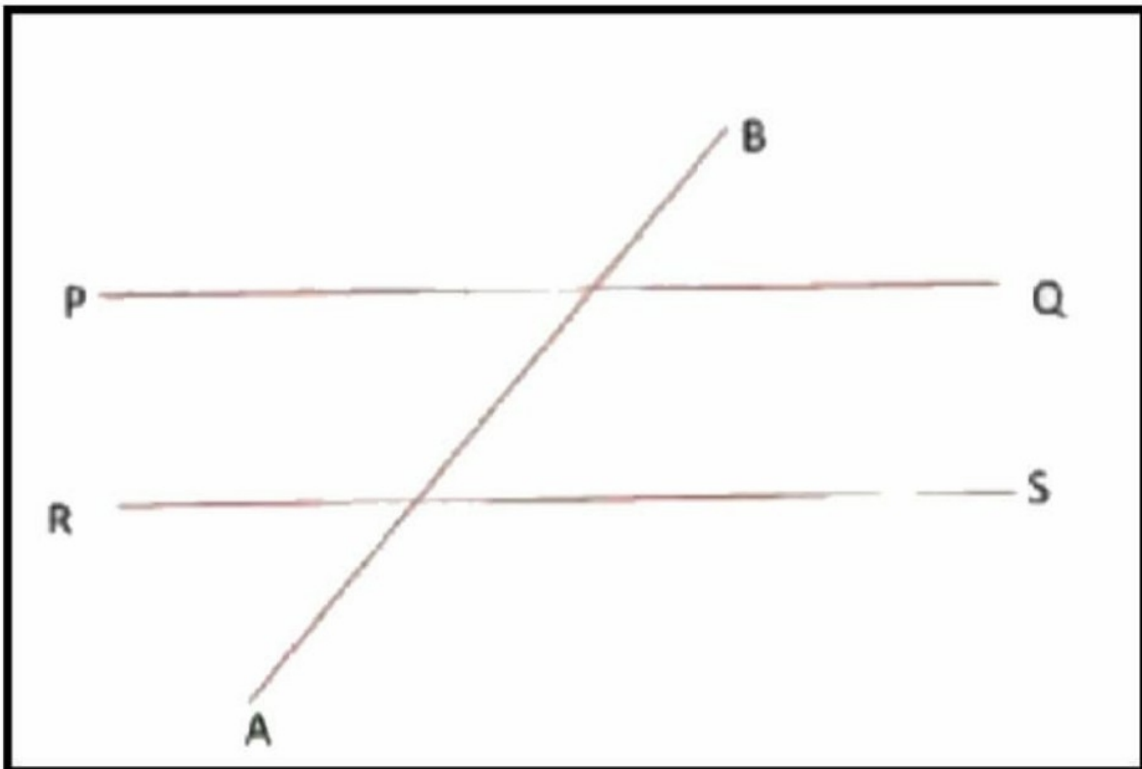
മിസ്സയുടെ ഡോ. കോഴിക്കോട്
മി.ജെ.നിമയുടെ ഡോ. പന്തലായിനി


സ്റ്റാൻഡേർഡ് : VII
വിഷയം : ഗണിതം
യൂണിറ്റ് : 2
ഛേദം : സമാന്തരരേഖകൾ
വർക്ക് ബുക്ക് നമ്പർ : 3

വൈറ്റ് ബോർഡ് വർക്ക് ഷീറ്റ്

തുടരൂച്ച

എതിർ കോണുകൾ കണ്ടെത്തുക






മിഥ്യയാല ഡോ. കോഴിക്കോട്
 ഫി.ജെ.എ.മി.ഡോ. ഡോ. പന്തലായിനി

സ്റ്റാൻഡേർഡ് : VII
 വിഷയം : ഗണിതം
 യൂണിറ്റ് : 2
 ഘട്ടം : സമാന്തരരേഖകൾ
 വർക്ക് ബുക്ക് നമ്പർ : 4


വൈറ്റ് ബോർഡ് വർക്ക് ഷീറ്റ്

തുടർച്ച

നിറം നൽകാം



ബാഹ്യകോണുകൾക്ക് നിറം നൽകാം.....



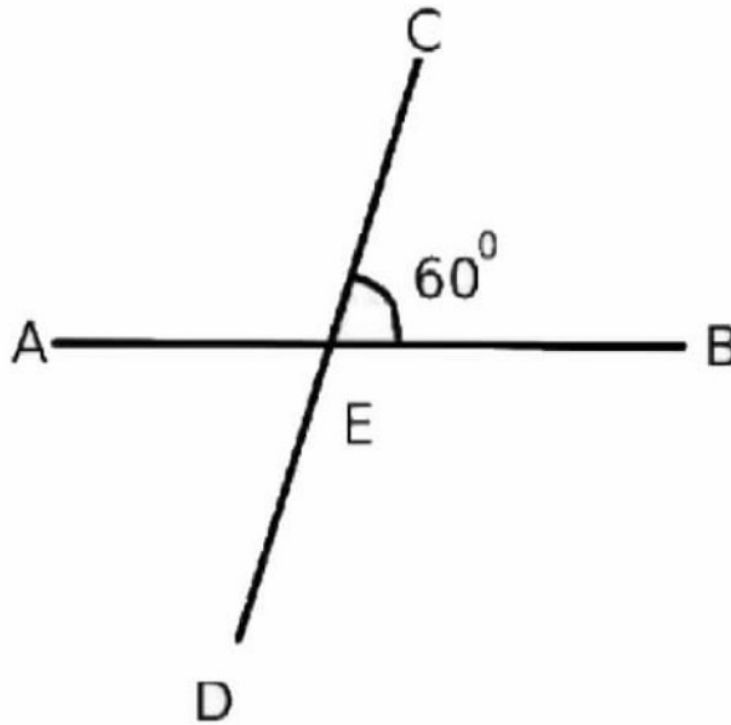
കുടുംബ ക്ഷേമ കോഴിക്കോട്
വി.ആർ.എസ്.എസ്. പന്തലായിനി

സ്റ്റാൻഡേർഡ് : VII
വർഷം : ഗണിതം
തൂണിറ്റ് : 2
പഠനം : സമാന്തരരേഖകൾ
വർക്ക് ബുക്ക് നമ്പർ : 5

വൈറ്റ് ബോർഡ് വർക്ക് ബുക്ക്

അവസാനം

കോൺ അളവുകൾ കണ്ടുപിടിക്കാം



- $\angle CEB = 60$
- $\angle CEA = \dots\dots\dots$
- $\angle AED = \dots\dots\dots$
- $\angle BED = \dots\dots\dots$